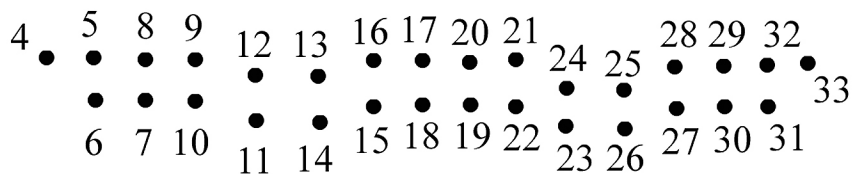




1. Połącz kropki. Jak nazywają się poszczególne budowle?

A




1 ●

36 ●

Ta budowla to



B



Ta budowla to

2. Uzupełnij tekst wyrazami z ramki.

Trzech Braci, Leszko, Mieszko, Cieszko, Cieszynem, źródło, wody, radością, Trzech

Legenda o Braciach

Trzej bracia, i wyruszają w podróż.

Podróżujący przez puszcę Leszek poszukuje

Odkrywa u stóp wzgórza.

Wkrótce przybywają ze swoimi drużynami i

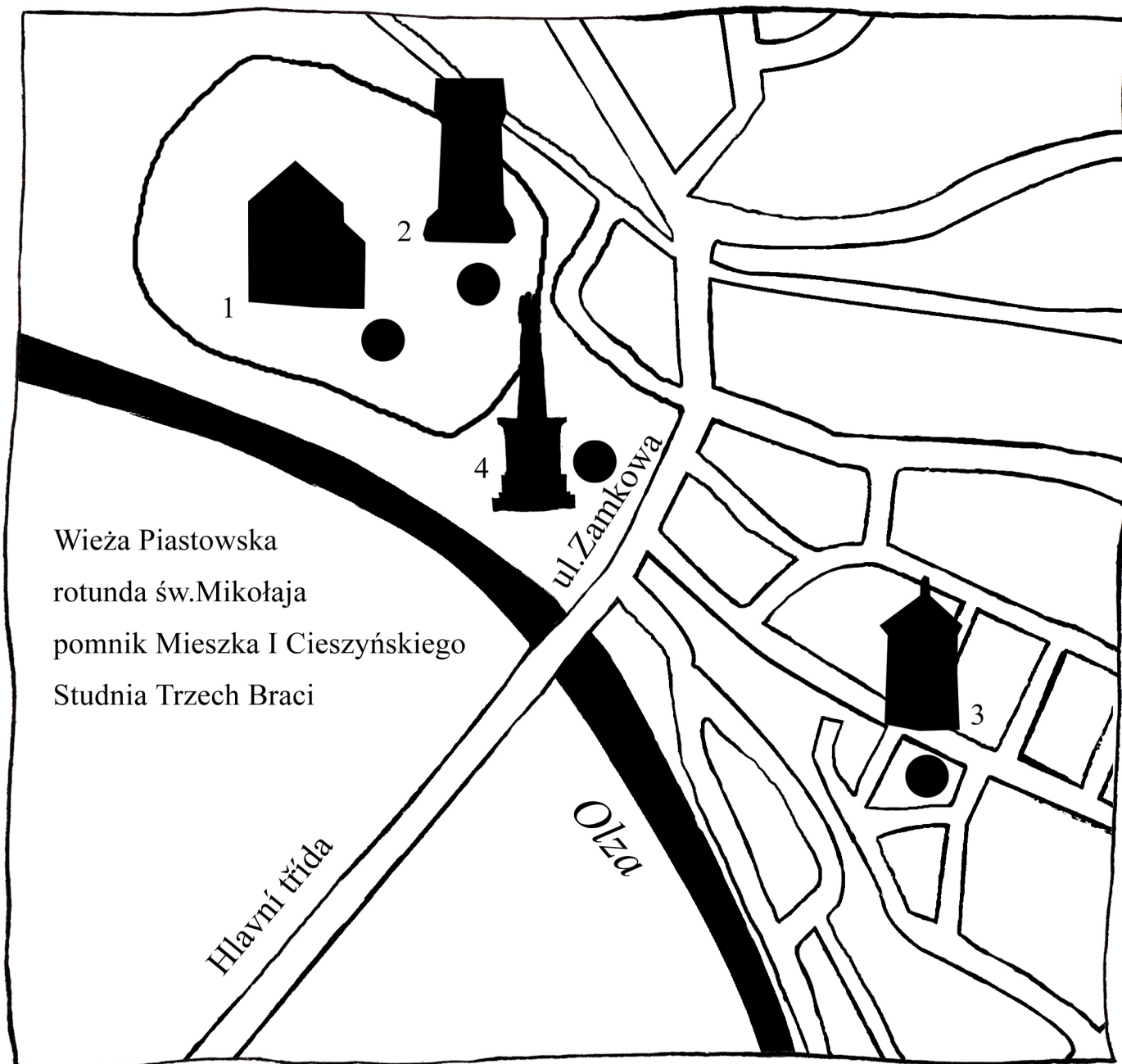
Bracia witają się z

W miejscu spotkania postanawiają założyć gród, który nazwą


Źródło zaś będzie się nazywało Studnią



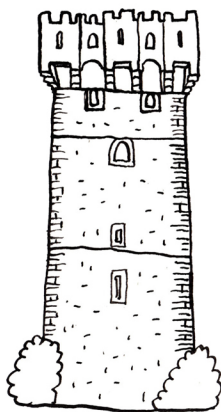
3. Wpisz do mapki Cieszyna nazwy znanych zabytków historycznych.



4. Pokoloruj, wycinaj i wklej do zeszytu zabytki Cieszyna.




1.



2.



3.



4.

5. PIASTOWIE (PIASTOVCI)

ODPOWIEDZI



1. A - Wieża Piastowska, B - rotunda św. Mikołaja

2. Legenda o **Trzech** Braciach

Trzej bracia **Leszko**, **Mieszko** i **Cieszko** wyruszają w podróż.

Podróżujący przez puszcę Leszek poszukuje **wody**.

Odkrywa **źródelko** u stóp wzgórza.

Wkrótce przybywają ze swoimi drużynami **Mieszko** i **Cieszko**.

Bracia witają się z **radością**.

W miejscu spotkania postanawiają założyć gród, który nazwą **Cieszynem**.

Źródło zaś będzie się nazywało **Studnią Trzech Braci**.

3. 1) rotunda św. Mikołaja, 2) Wieża Piastowska, 3) Studnia Trzech Braci

4) pomnik Mieszka I Cieszyńskiego
