

Platforma edukacyjna i karty pracy
- czeskie i polskie realia historyczne
w zakresie edukacyjnym
Człowiek i jego świat.

RAZEM Z MIESZKIEM I DĄBRÓWKĄ



KARTY PRACY

Podpořeno Ministerstvem školství,
mládeže a tělovýchovy
v rámci dotačního programu
Podpora vzdělávání v jazycích národnostních menšin
a multikulturní výchovy v roce 2012.

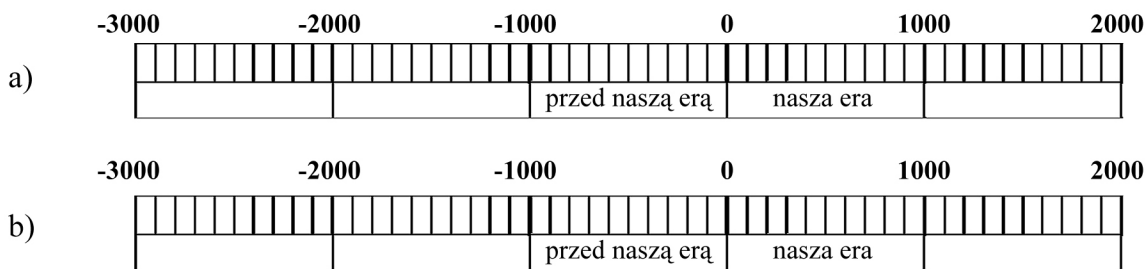
Wsparte przez Ministerstwo Szkolnictwa,
Młodzieży i Kultury Fizycznej w ramach programu dotacyjnego
Wspieranie edukacji w językach mniejszości narodowych
i edukacji międzykulturowej w roku 2012.



1. Zaznacz na mapce Biskupin i Podoborę.



2. Zaznacz na osiach czasu: a) wiek, w którym istniała osada w Biskupinie, b) wiek, w którym istniała osada w Podoborze.

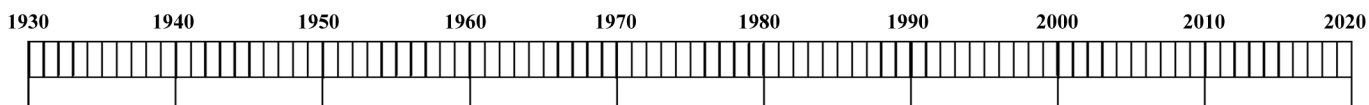


3. Uzupełnij tekst wyrazami z ramki.

most, tysiąca, obronna, wałem, wjazdowa, kości, brązu, żelaza, rybołówstwem, rolnictwem


Biskupin - to osada sprzed 2500 lat.
 W celu zabezpieczenia przed wrogiem otoczono ją obronnym.
 W osadzie mieszkało około osób.
 Do osady prowadził i brama
 Mieszkańcy trudnili się i
 Narzędzia robili z , i

4. Na osi czasu zaznacz lata urodzenia członków swojej rodziny:





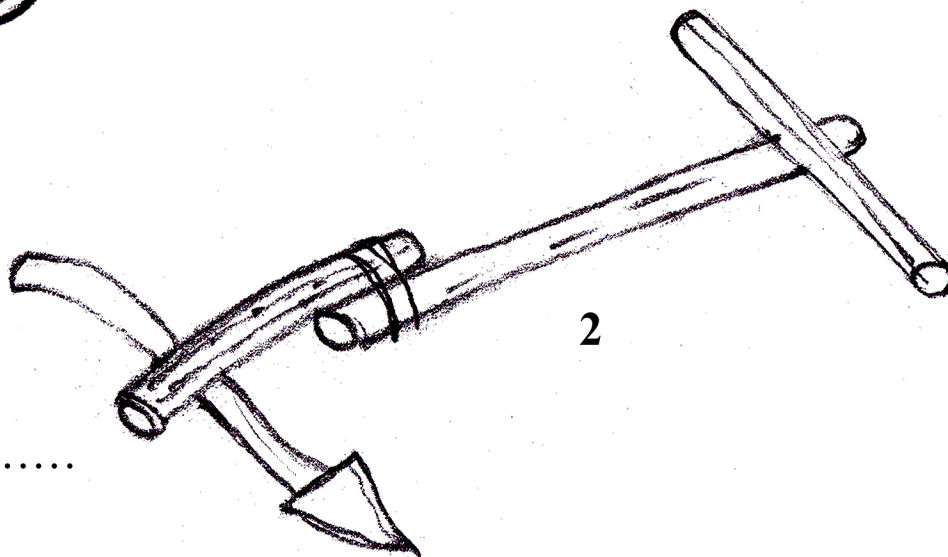
1. Podpisz przedstawione przedmioty i powiedz,
do czego służyły.



1



.....



2

.....



3

.....



4

.....




1. DAWNE DZIEJE
(Z DÁVNÝCH DOB)

KARTA PRACY 2



2. Jak w czasach współczesnych wyglądają przedmioty z ćw.1?
Narysuj Twoją propozycję.



3. Zaznacz poprawną odpowiedź.

1. Która rzeka przepływa pod grodziskiem w Podoborze?
a) Wisła b) Łaba c) Olza
2. Z jakich trzech części było zbudowane grodzisko?
a) akropol, zamek, dom
b) podgrodzie, stajnia, zamek
c) akropol, podgrodzie I, podgrodzie II
3. Z czego jest zrobiona palisada?
a) z żelaza b) z drewnianych pali c) z gliny
4. Czym się odżywiali Słowianie?
a) kaszą b) popkornem c) lodami
5. Jakim językiem mówili obywatele Podobory?
a) polskim b) starosłowiańskim c) czeskim
6. Do czego służyły żarna?
a) gotowania mięsa b) szycia c) mielenia zboża na mąkę



1. Podpisz na mapce zaznaczone miejsca.

PODOBORA
GNIEZNO
KRUSZWICA
BISKUPIN



2. Z poziomych rzędów wykreśl niepotrzebne litery, a otrzymasz odpowiedzi zgodnie z podanymi hasłami.

1. Jezioro nad Kruszwicą
2. Okrutny władca
3. Nazwisko bogatego chłopca - kmiecia
4. Syn Piasta
5. Pierwsza stolica Polski
6. Jeden z trzech braci

| | | | | | | | | | | |
|----|---|---|---|---|---|---|---|---|---|---|
| 1. | A | G | E | O | P | S | Ł | T | O | K |
| 2. | P | L | O | T | P | K | I | W | E | L |
| 3. | F | P | I | R | C | A | D | H | S | T |
| 4. | S | I | E | L | M | O | B | W | I | T |
| 5. | O | G | N | W | I | E | G | Z | N | O |
| 6. | L | Ł | M | E | N | P | R | C | T | H |

3. Uzupełnij zdania.

Według legendy pierwszym władcą państwa Polan był

Pierwszą stolicą Polski było

Mysia Wieża leży nad jeziorem

Godłem Polski jest



1. Pokoloruj legendarne postacie, następnie podpisz obrazki.



2. Uzupełnij zdania.

Według legendy pierwszym władcą Czechów był

Gród, który wybudowano nad Wełtawą to

Córka, która objęła rządy po śmierci ojca nazywała się

Mężem Libuszy i legendarnym założycielem rodu Przemyslidów był

3. Podkreśl kolorem czerwonym - czeskie legendarne postacie,
kolorem niebieskim - bajkowe, kolorem zielonym – współczesne postacie.

Jaromír Jágr, Czerwony Kapturek, Mojmir, praojciec Czech, Justyna Kowalczyk,
Baba Jaga, Václav Klaus, Miś Uszatek, Libusza, Bronisław Komorowski,
Przemysław Oracz, Hello Kitty, Jaś i Małgosia, Robert Kubica

**1. Zaznacz poprawną odpowiedź.**

Z jakiego rodu pochodził Mieszko I? *z rodu Piastów / z rodu Przemyślidów*

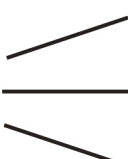
Gdzie znajdowała się pierwsza stolica Polski? *w Pradze / w Gnieźnie*


W którym wieku (roku) przyjął chrzest Mieszko I? *X (966) / II (123)*

Co było związane z przyjęciem chrztu przez Mieszka I? *wykupienie skarbu/*

ślub z Dąbrówką

2. Zaznacz poprawną odpowiedź.

Mieszko I był  *królem*
księciem
księdzem

3. Narysuj gród, w którym mogli mieszkać Piastowie.



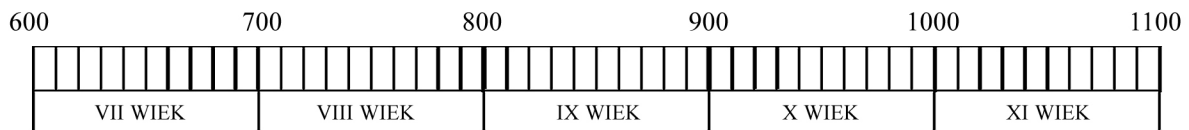
1. Jak nazywało się wielkie państwo słowiańskie na obszarze Morawy i części Słowacji? Wybierz poprawną odpowiedź.

- a) Słowiańsko
- b) Wielkie Morawy
- c) Moravia

2. Jak nazywali się bracia, którzy przybyli na tereny Wielkich Moraw, aby szerzyć chrześcijaństwo? Zapisz odpowiedź.

.....

3. Na osi czasu zaznacz wiek, w którym istniały Wielkie Morawy.



4. Zapisz swoje imię posługując się alfabetem starsłowiańskim - glagolicą.

| | | | | | | | |
|-----|----|----|----|----|-----|----|--------|
| † | Ɱ | ⱮⱮ | ⱮⱮ | ⱮⱮ | Ɱ | ⱮⱮ | Ɱ |
| a | b | v | g | d | ε | ž | dz |
| ⱮⱮ | Ɱ | ⱮⱮ | Ɱ | Ɱ | ⱮⱮ | ⱮⱮ | Ɱ |
| z | i | i | ǵ | k | l | m | n |
| Ɱ | Ɱ | Ɱ | Ɱ | Ɱ | ⱮⱮ | Ɱ | Ɱ |
| o | p | r | s | t | u | f | x (kh) |
| Ɱ | Ɱ | Ɱ | Ɱ | Ɱ | ⱮⱮ | ⱮⱮ | Ɱ |
| o | ts | č | š | št | w/ə | ı | y |
| Ɱ | Ɱ | Ɱ | Ɱ | Ɱ | Ɱ | Ɱ | Ɱ |
| æ/e | yu | ě | yě | ǫ | yǫ | f | i/v |



1. Uzupełnij tekst wyrazami z ramki.

Bolesław Chrobry, Brzetysław, 1025, św. Wojciecha, Drzwi Gnieźnieńskie,
ciało biskupa Wojciecha

Po śmierci Mieszka I rządy w Polsce objął..... . Książę chciał w Gnieźnie
założyć arcybiskupstwo, dlatego wykupił od Prusów ciało
Czeski władca napadł na Polskę i zabrał do Pragi
..... . W roku , w Katedrze Gnieźnieńskiej,
Bolesław Chrobry koronował się na króla Polski. Do najbardziej znanych zabytków
Gniezna należą (wykonane z brązu), które
przedstawiają osiemnaście scen z życia świętego Wojciecha.

2. Uzupełnij zdania.

Pierwsza stolica Polski to

Pierwszym królem Polski był

Pierwsze arcybiskupstwo założono w

3. Oblicz łańcuszek liczbowy.

$$5000 - 3420 - 580 + 1500 - 750 - 725 = \dots\dots\dots$$

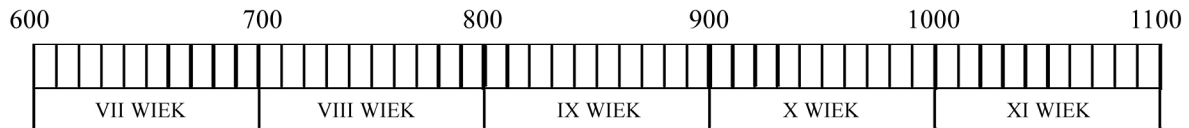
Co wydarzyło się w tym roku?

.....



1. Oblicz podane działania matematyczne, następnie zaznacz na osi okres panowania dynastii Przemyślidów w Czechach. Pamiętaj, że wiek zapisujemy cyframi rzymskimi.


_____ . połowa _____ wieku - początek _____ wieku
16 : 8 36 : 4 28 : 2



2. Spośród podanych zdań wybierz poprawne, następnie je podkreśl.

- W kronice Kosmasa znajduje się podanie o księżnej Libuszy i Przemyśle Oraczu.
- Pierwszym historycznym władcą z dynastii Przemyślidów był Cyryl.
- Waclaw I Święty był wnukiem Ludmiły.
- Święty Waclaw jest patronem Niemiec.
- Brat św. Waclawa dostał przydomek Srogi.
- Dąbrówka była córką czeskiego księcia Bolesława.
- Sławnikowicze to czeski ród przyjaźniący się z rodem Przemyślidów.
- Waclaw III był ostatnim władcą z dynastii Przemyślidów.

3. Pokoloruj postacie ubrane zgodnie z obowiązującą w IX wieku modą.





1. Wybierz poprawną odpowiedź, niewłaściwą skreśl.

Okres od XI do XIII wieku to czas, gdy książęta i królowie polscy prowadzili wojny z Niemcami, Słowakami, Czechami, Krzyżakami, Francuzami, Amerykanami, Tatarami.

Rozbiciem dzielnicowym nazywamy

- podzielenie państwa polskiego przez króla między swoich synów.
- geograficzny podział miasta na dzielnice.

Przydomki władców to

- sztucznie wymyślone imiona przez historyków.
- przymiotniki, które przyłgnęły do władców, zostały im nadane, by zaznaczyć szczególną cechę.

2. Wpisz poziomo polskie odpowiedniki angielskich nazw zwierząt.

1. Dog
2. Turkey
3. Alligator
4. Elephant
5. Tarpan
6. Sheep
7. Snake
8. Ibis
9. Emu

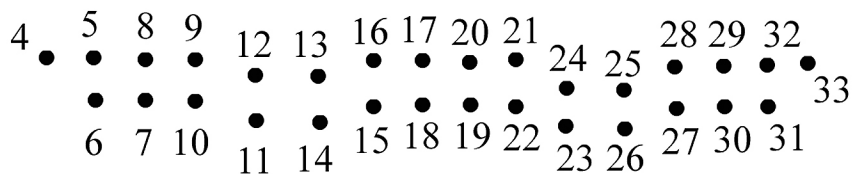
| | | | | | | | |
|----|--|--|--|--|--|--|--|
| 1. | | | | | | | |
| 2. | | | | | | | |
| 3. | | | | | | | |
| 4. | | | | | | | |
| 5. | | | | | | | |
| 6. | | | | | | | |
| 7. | | | | | | | |
| 8. | | | | | | | |
| 9. | | | | | | | |

Pierwszą dynastią panującą w Polsce byli



1. Połącz kropki. Jak nazywają się poszczególne budowle?

A




1 ●

36 ●

Ta budowla to



B



Ta budowla to

2. Uzupełnij tekst wyrazami z ramki.

Trzech Braci, Leszko, Mieszko, Cieszko, Cieszynem, źródło, wody, radością, Trzech

Legenda o Braciach

Trzej bracia, i wyruszają w podróż.

Podróżujący przez puszcę Leszek poszukuje

Odkrywa u stóp wzgórza.

Wkrótce przybywają ze swoimi drużynami i

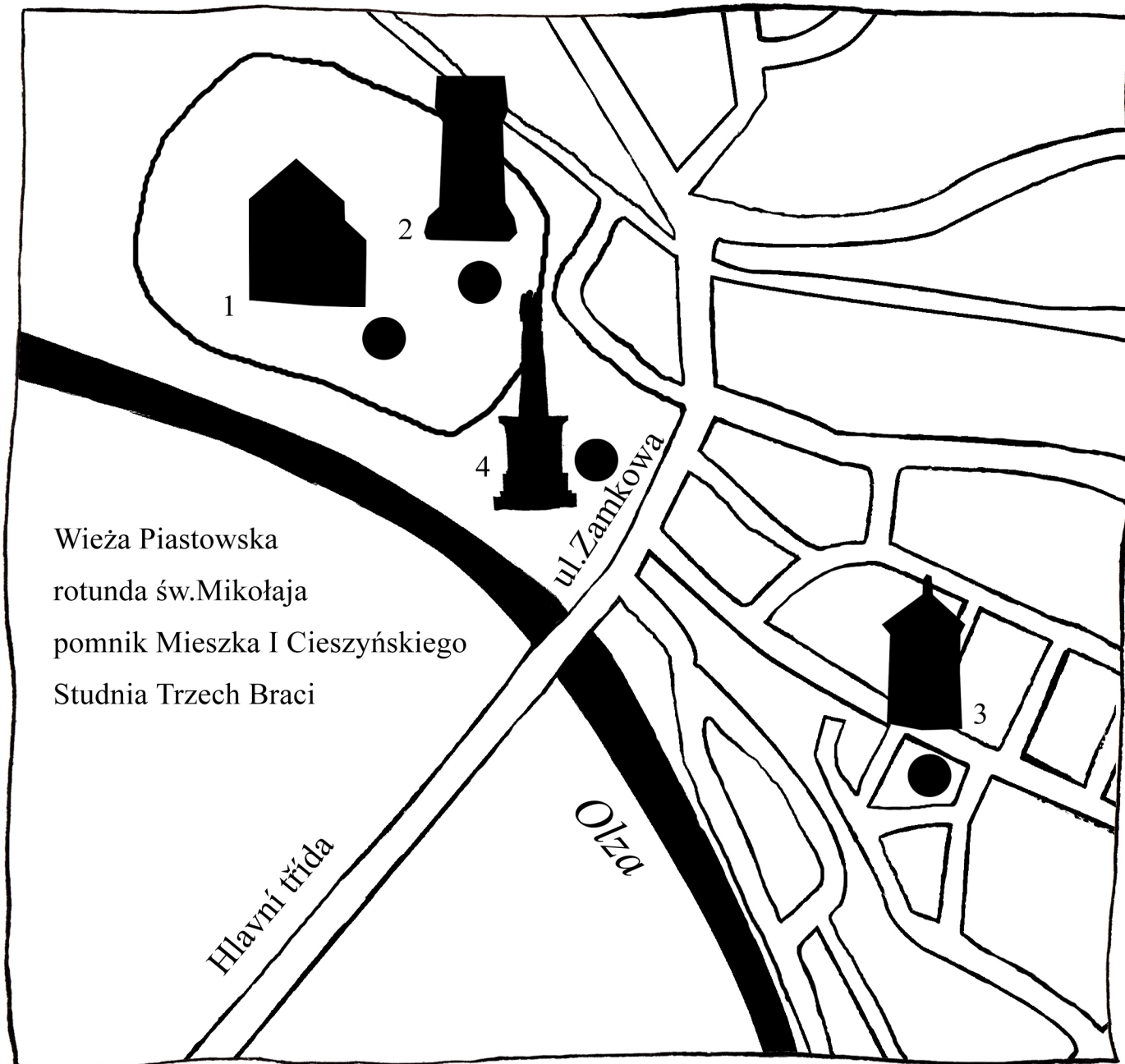
Bracia witają się z

W miejscu spotkania postanawiają założyć gród, który nazwą


Źródło zaś będzie się nazywało Studnią



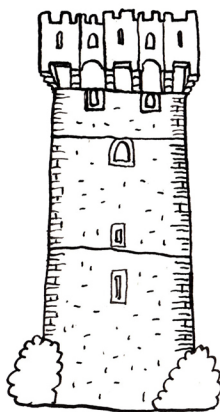
3. Wpisz do mapki Cieszyna nazwy znanych zabytków historycznych.



4. Pokoloruj, wycinaj i wklej do zeszytu zabytki Cieszyna.




1.



2.



3.



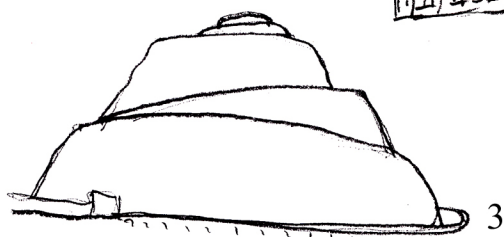



4.



1. Do podanych nazw krakowskich zabytków przyporządkuj odpowiednie numery obrazków.

- kościół Mariacki
- Wawel
- Smocza Jama
- Sukiennice
- kopiec Kościuszki



2. Zapisz w formie haseł odpowiedzi na pytania.

Kto dokonał zjednoczenia rozbitej na dzielnice Polski?

Jak nazywa się miasto - wielowiekowa stolica Polski, siedziba królów, książąt i biskupów?

Która rzeka przepływa przez Kraków?

Co jest największą atrakcją turystyczną Krakowa?

Jak nazywa się część muru obronnego - słynny krakowski zabytek?

.....

3. Zrób ilustrację do wybranej przez siebie legendy krakowskiej.



1. W jaki sposób Karol IV doprowadził do rozkwitu swego królestwa?

Uzupełnij zdania.

W czasach panowania Karola IV założono nową część Pragi -

Brzegi Wełtawy połączono

Założono w Pradze pierwszy w Europie Środkowej.

Podczas panowania Karola IV wybudowano zamek, w którym przechowywano klejnoty koronacyjne. Karol IV odbudował także swoją siedzibę

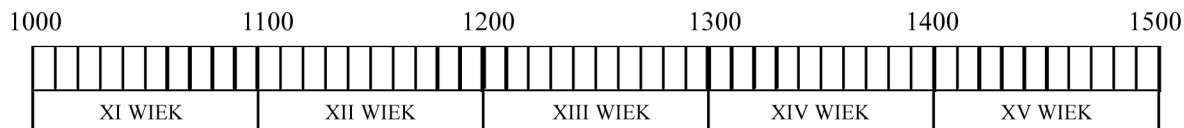
-

2. Oblicz podane działania matematyczne, następnie zaznacz na osi okres panowania Karola IV.

Pamiętaj, że wiek zapisujemy cyframi rzymskimi.

$$\frac{\quad}{673:2} - \frac{\quad}{2756:2} \quad (\text{___ wiek})$$

$$84:6$$



3. Z rozsypanych wyrazów ułóż zdania.

władców należał w czeskiej Karol IV historii. do najsłynniejszych

.....

był dyplomatą Karol IV i odważnym mądrym rycerzem. władcą,


.....

wykształconych tego okresu. należał Karol IV do najbardziej władców

.....

4. W piramidzie ukryła się magiczna data i godzina rozpoczęcia budowy mostu Karola.

Znajdź ją, następnie zapisz.





1. Podkreśl zdanie, które charakteryzuje Kazimierza Wielkiego.

Lud nie musi być ani mądry, ani wykształcony.

Zastał Polskę drewnianą, a zostawił murowaną.

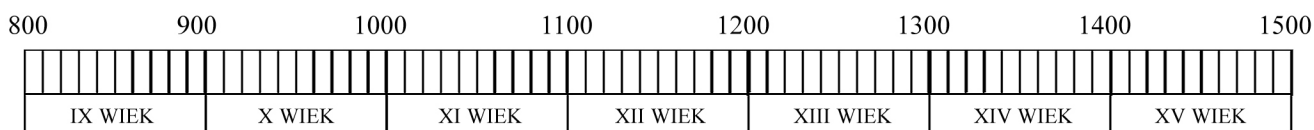
Nie lubił poddanych, ludzi ubogich.

2. Wraz ze śmiercią Kazimierza Wielkiego wymarła dynastia Piastów *po mieczu*. Co oznacza to wyrażenie? Zaznacz właściwą odpowiedź.

- władca zginął w boju
- władca zmarł, nie pozostawiając po sobie potomka rodu męskiego
- władca zginął od ciosów miecza

3. Oblicz podane działania matematyczne, następnie zaznacz na osi okres panowania dynastii Piastów w Polsce. Pamiętaj, że wiek zapisujemy cyframi rzymskimi.

$$\frac{12:6}{12:6} \cdot \text{połowa } \frac{5.2}{5.2} \text{ wieku} - \frac{18:9}{18:9} \cdot \text{połowa } \frac{7.2}{7.2} \text{ wieku}$$



4. Połącz przydomki z odpowiednimi imionami królów i książąt.

Wielki

Bolesław

Chrobry

Władysław

Krzywousty

Kazimierz

Łokietek

Bolesław




1. Uzupełnij tekst wyrazami z ramki.

Wacław IV, Jan Hus, heretykiem, Konstancji

Po śmierci Karola IV władzę objął jego syn
 w swych kazaniach, w Kaplicy Betlejemskiej, upominał szlachtę oraz
 dostojników kościelnych, aby żyli według bożych przykazań. Kościół nazwał Jana Husa
 Na soborze kościelnym w Jan Hus niestety
 nie obronił swoich poglądów, dlatego został skazany na śmierć przez spalenie.

2. Narysuj na chorągwi symbol husytów.



**3. Ułóż sylaby tak, aby można było zapisać poprawnie nazwy miejscowości,
 w których odbyły się słynne bitwy wojen husyckich.**

DO SU MIERZ

NY PA LI

MAŻ DO CE LI

**4. Kiedy w Republice Czeskiej obchodzone jest święto upamiętniające śmierć Jana Husa?
 Zapisz datę.**

.....



1. Odpowiedz na pytania, następnie zapisz swoje odpowiedzi.

1. W którym roku była bitwa pod Grunwaldem?
2. Kto zwyciężył w bitwie pod Grunwaldem?
3. Jak nazywał się zamek, w którym Krzyżacy mieli swoją siedzibę?
4. Oblicz, ile lat minęło od słynnej bitwy pod Grunwaldem?

.....

.....

.....

.....

.....

.....

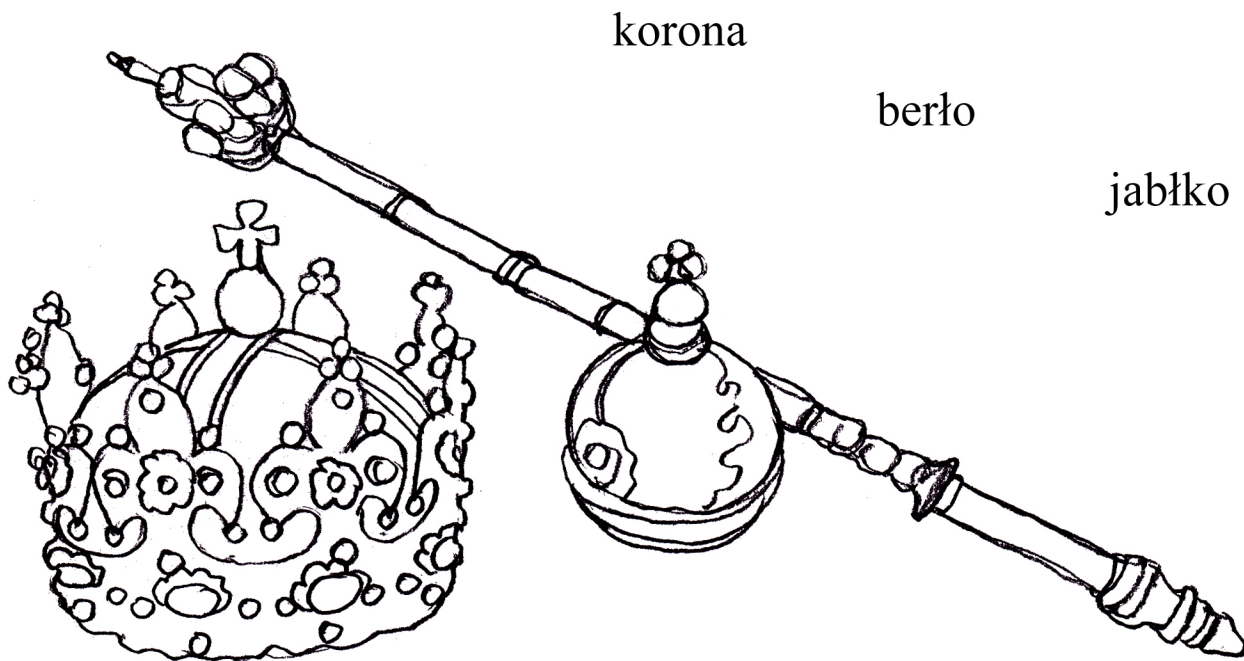
.....

.....

.....

.....

2. Pokoloruj klejnoty koronacyjne, następnie połącz nazwy z odpowiednimi obrazkami.





1. Uzupełnij tekst wyrazami z ramki.

wydarzeń w historii, Jan Gutenberg, ludzkości, słowa pisanego

Wynalazcą trzcionki drukarskiej jest

Wynalazek druku jest jednym z najważniejszych

Druk umożliwił rozpowszechnienie się

Gutenberg zapoczątkował nową erę w dziejach

2. Jak powstaje książka? Wytnij wyrazy z ramek, następnie połącz je odpowiednio w pary i wklej do okienka w takiej kolejności, w jakiej powstaje książka.

Napisz opowiadanie o powstawaniu książki z zastosowaniem podanych wyrazów. Możesz także wykonać ilustracje.

wydawca

drukarz

korektor

ilustrator

autor

przygotowuje książkę do druku

sprawdza poprawność tekstu

ma pomysł na ciekawą książkę,
pisze tekst

przenosi tekst książki na papier

artysta plastyk tworzy ilustracje do książki



**1. Inicjał to pierwsza, ozdobna litera w tekście.
Narysuj Twoje propozycje takiej litery.**

2. Wybierz i podkreśl najbardziej znanych polskich kronikarzy.

Jan Gutenberg, Jan Długosz, Izydor Piszący, Wincenty Kadłubek, Wacław Piśmienny,
Gall Anonim, Franciszek Domagała

3. Połącz nazwiska kronikarzy z odpowiednimi określeniami oraz tytułami.

| | |
|-------------------|---|
| | żył na dworze Bolesława Krzywoustego |
| | łączył legendy z faktami historycznymi |
| Gall Anonim | pisał po łacinie |
| Wincenty Kadłubek | „Roczniki czyli kroniki sławnego Królestwa Polskiego” |
| Jan Długosz | pisał po polsku |
| | pisał w XV wieku |
| | żył na dworze Kazimierza Jagiellończyka |
| | "Kronika polska" |



1. Uzupełnij tekst wyrazami z ramki.

szlachcicem, Jerzy z Podiebradów, Władysław Jagiellończyk, polskiego, Maciej Korwin

Po wojnach husyckich na ziemiach czeskich panował

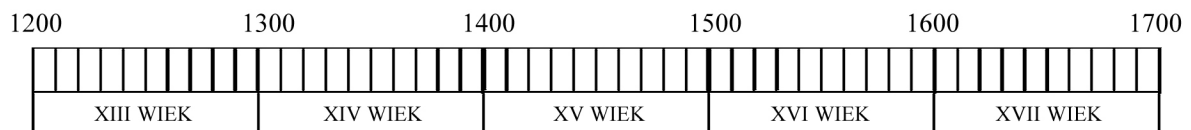
Nie pochodził z dynastii królewskiej, był bogatym

W tym czasie napadł na ziemie czeskie węgierski król

Następcą Jerzego z Podiebradów był, syn
króla.

2. Oblicz podane działania matematyczne, następnie zaznacz na osi okres panowania dynastii Jagiellonów w Czechach. Pamiętaj, że wiek zapisujemy cyframi rzymskimi.

$\frac{\quad}{14:7}$. połowa $\frac{\quad}{30:2}$ wieku - $\frac{\quad}{20 : 20}$. połowa $\frac{\quad}{32:2}$ wieku

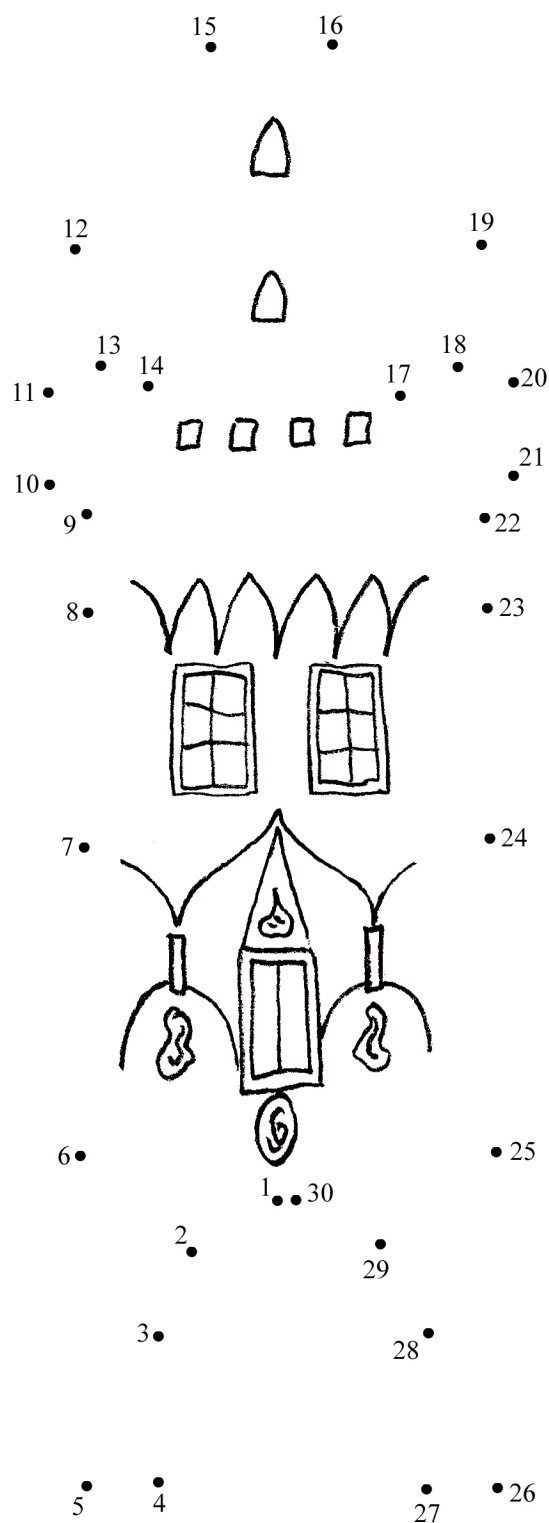


3. Pokoloruj postać Jerzego z Podiebradów.





4. Połącz kropki, zapisz nazwę budowli, którą wybudowano w czasach panowania Władysława Jagiellończyka. Znajdź w Internecie lub innych źródłach pochodzenie nazwy tej budowli.



**1. Podkreśl zdanie, które charakteryzuje Mikołaja Kopernika.**

Wstrzymał Słońce, ruszył Ziemię.

Matematyka jest miarą wszystkiego.

Największe zło to tolerować krzywdę.

2. Podkreśl poprawne zdanie.

Mikołaj Kopernik udowodnił, że Słońce krąży wokół Ziemi, a nie Ziemia wokół Słońca.

Mikołaj Kopernik udowodnił, że Ziemia krąży wokół Słońca, a nie Słońce wokół Ziemi.

3. Co nazywano włoszczyzną w czasach panowania Zygmunta Starego?

Zaznacz właściwą odpowiedź.

a) to, co było włochate

b) to, co było związane z Włochami

c) to, co było związane z włosami

4. Uzupełnij tekst wyrazami z ramki.

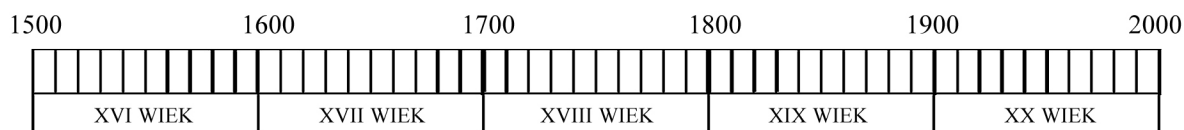
Zygmunt III Waza, Złotego Wieku, Jagiellonów, Zygmunta Starego, Mikołaj Kopernik

Wiek XVI nosił nazwę Pod koniec XVI wieku król rozpoczął przenosiny dworu królewskiego z Krakowa do Warszawy. W Polsce panowali ostatni królowie z rodu Królowa Bona była Włoszką i żoną Najwybitniejszym astronomem tych czasów był



1. Oblicz podane działania matematyczne, następnie zaznacz na osi okres panowania dynastii Habsburgów w Czechach. Pamiętaj, że wiek zapisujemy cyframi rzymskimi.

$\frac{\quad}{14:14}$. połowa $\frac{\quad}{48:3}$ wieku – początek $\frac{\quad}{100:5}$ wieku



2. Zaznacz poprawną odpowiedź.

Cesarz Rudolf II pochodził z dynastii *Przemyslidów / Habsburgów*.


Na swoją siedzibę Rudolf II wybrał *Pragę / Wiedeń*.

W czasach panowania Rudolfa II Praga *rozkwitła / upadła*.

Rudolf II *był / nie był* miłośnikiem nauki i sztuki.

Na swój dwór zapraszał artystów, naukowców, alchemików, nawet sławnych *astronautów / astronomów*.


3. Jak według Ciebie wyglądał Golem?
Narysuj Twoją propozycję.







1. Wpisz poziomo nazwy postaci z bajek.

Rozwiązaniem jest nazwa polskiego miasta, w którym mieszkał Komeński.



1.




3.



2.



4.



5.



6.

2. Uzupełnij w tekście brakujące wyrazy.

Jan Amos Komeński mieszkał i pracował w polskim mieście, które stało się ważnym ośrodkiem reformacji. Kilkanaście lat przed swoją śmiercią wyprowadził się do w Holandii, gdzie zmarł i został pochowany w w 1670 roku.

3. Podaj nazwy dwóch najsłynniejszych dzieł J. A. Komeńskiego.

.....

4. Jak nazywano J. A. Komeńskiego, dlaczego?

.....



1. Zaznacz na mapie Europy miejsca związane z życiem i działalnością Jana Amosa Komeňskiego, połącz je linią według kolejności wydarzeń.

1. Uherský Brod
2. Fulnek
3. Leszno
4. Sztokholm
5. Amsterdam





2. Uzupełnij w tekście brakujące wyrazy.

W Europie od 1618 do 1648 roku między protestanckimi władcami i katolicką dynastią Habsburgów toczyła się wojna, którą nazwano wojną Po bitwie na w roku, która była częścią tej wojny, J. A. Komeński musiał uciekać z kraju, ponieważ nie chciał zmienić wiary..... na wiarę..... .

3. Jak nazywała się dynastia niemiecka, która panowała w kilku państwach europejskich i posiadała wielkie wpływy w Europie od XV do XVIII wieku?

.....

4. Do podanych miejsc, związanych z życiem i działalnością J. A. Komeńskiego, dopisz państwa zgodnie z obecnym podziałem politycznym Europy.

- Uherský Brod
- Fulnek
- Leszno
- Sztokholm
- Amsterdam

5. Wykreśl w rzędach (poziomo) nazwy zaolziańskich miejscowości, a otrzymasz hasło - miejsce w Holandii, gdzie zmarł J.A. Komeński.

| | | | | | | |
|---|---|---|---|---|---|---|
| N | G | R | Ó | D | E | K |
| K | A | O | Ń | S | K | A |
| L | E | A | S | Z | N | A |
| N | A | W | R | S | I | E |
| R | O | P | I | D | C | A |
| P | I | O | S | E | E | K |
| D | A | R | K | Ó | W | N |



1. Połącz nazwisko polskiego króla z państwem, z którego pochodził.

| | |
|--------------------|---------|
| Zygmunt III Waza | Litwa |
| Henryk Walezy | Polska |
| Jan III Sobieski | Francja |
| Władysław Jagiełło | Szwecja |


2. Uzupełnij w tekście brakujące wyrazy.


Zygmunt III Waza przeniósł stolicę Polski z do
 w roku. Był on synem Jana III Wazy i córki Zygmunta Starego Katarzyny

3. Najślynniejsi dowódcy polscy w czasach Zygmunta III Wazy byli nazywani hetmanami.


Podaj imię i nazwisko sławnego polskiego hetmana:


4. Wpisz poziomo nazwy ptaków, w oznaczonych polach
 otrzymasz narodowość króla Zygmunta III Wazy.


1. 

2. 

| | | | | | |
|----|--|--|--|--|--|
| 1. | | | | | |
| 2. | | | | | |
| 3. | | | | | |
| 4. | | | | | |
| 5. | | | | | |

3. 

4. 

5. 

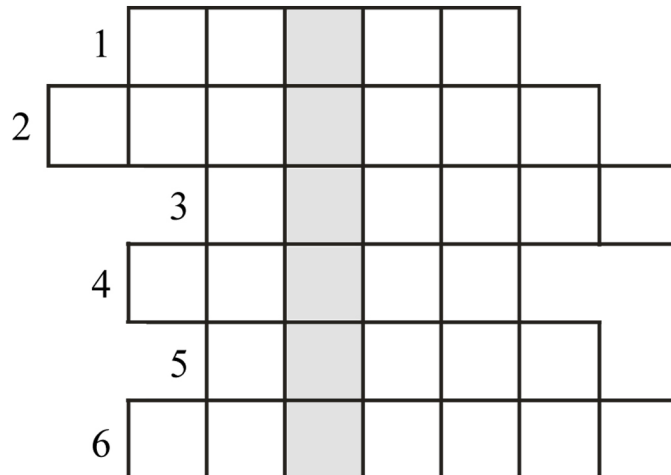
12. BITWA POD WIEDNIEM
(BITVA U VÍDNĚ)

KARTA PRACY 1



1. Wpisz poziomo nazwę zwierzątka (zdrobniale),
a otrzymasz nazwę władcy Turcji.

1. Chytry jak ...
2. Mąż kury to...
3. Ma wielką trąbę.
4. Boją się go myszy.
5. Bajkowy przysmak bociana.
6. Jeździł na nim Sobieski.



2. Znajdź i wykreśl (w słupkach) nazwy stolic europejskich, a otrzymasz hasło
- miejsce przelomowej bitwy w Europie w XVII wieku.

| | | | | | |
|---|---|---|---|---|---|
| W | P | M | B | K | A |
| P | I | I | E | I | T |
| R | A | E | R | J | E |
| A | R | Ń | D | Ó | N |
| G | Y | S | N | E | Y |
| A | Ż | K | O | W | Ń |

12. BITWA POD WIEDNIEM
(BITVA U VÍDNĚ)

KARTA PRACY 2



3. Zaznacz na mapie politycznej trasę wyprawy wojennej Jana III Sobieskiego z Warszawy do Wiednia w 1683 roku. Napisz przez które duże polskie i czeskie miasta mógł przejeżdżać?





4. Połącz nazwy miast z z odpowiednimi zabytkami.

| | |
|----------|--------------|
| Warszawa | Wawel |
| Praga | Wersal |
| Londyn | Wilanów |
| Kraków | most Karola |
| Paryż | Tower Bridge |

5. Połącz w pary władców z ich żonami.

| | |
|--------------------|------------|
| Jan III Sobieski | Dąbrówka |
| Mieszko | Jadwiga |
| Zygmunt Stary | Marysieńka |
| Władysław Jagiełło | Bona |

6. Uzupełnij w tekście brakujące wyrazy.

Polski król Jan w roku walczył w bitwie pod
Pokonał wojska pod dowództwem wielkiego wezyra Mustafy.



1. Jak nazywał się ostatni król Polski? Zaznacz pętlą poprawną odpowiedź.

Stanisław August Poniatowski

Józef Poniatowski

Józef Wybicki

Ignacy Krasicki

2. Podaj imię bliskiej przyjaciółki króla Stanisława Augusta Poniatowskiego, która była carycą Rosji.

.....

3. Wymień państwa, które uczestniczyły w rozbiorach Polski.

.....

.....

.....

4. Które reformy przeprowadził król Stanisław August Poniatowski?
Zaznacz pętlą poprawne odpowiedzi.

- założył Teatr Narodowy

- założył Szkołę Rycerską

- polecił wybudować winnice

- przeprowadził reformę szkolnictwa

- organizował śniadania czwartkowe

- pracował nad Konstytucją 3 maja



5. Połącz obrazki z odpowiednimi nazwiskami.



Pieśń Legionów Polskich we Włoszech
 Jeszcze Polska nie zginęła,
 kiedy my żyjemy.
 Co nam obca wzięła,
 szabłą obierzemy.
 Marsz, marsz, do Polski
 do polskiej ziemi w polski
 z naszym przewodem
 słuchaj jeno, pono
 już tam do swej Basi
 mówi zapłakany
 biją w tarabany.
 Marsz, marsz, po szwedzkim zaborze,
 dla ratowania
 wrócim się przez morze.

Józef Wybicki

Stanisław August Poniatowski

Jan Henryk Dąbrowski

6. Znasz tekst „Mazurka Dąbrowskiego”? Uzupełnij puste miejsca odpowiednimi wyrazami.

Jeszcze nie zginęła,
 my żyjemy,
 Co nam obca wzięła,
 szabłą obierzemy.
 Marsz, marsz, ,
 z ziemi do Polski!
 Za przewodem
 się z narodem.
 Przejdziem , przejdziem Wartę,
 będziem Polakami,
 Dał nam przykład ,
 jak mamy.
 Marsz, marsz,

Jak do Poznania
 po szwedzkim zaborze,
 dla ratowania
 wrócim się przez morze.
 Marsz, marsz,
 Już tam do swej Basi
 mówi zapłakany:
 słuchaj jeno, pono
 biją w tarabany.
 Marsz, marsz,

7. Dokończ następujące zdanie.

Autorem *Pieśni Legionów Polskich we Włoszech* jest

13. MARIA TERESA
(MARIE TEREZIE)

KARTA PRACY 1



1. Połącz władcę z odpowiednią dynastią.

MARIA TERESA

Piastowie

BOLESŁAW CHROBRY

Habsburgowie

2. Jaki był odpowiedni wiek na naukę dzieci, który został wprowadzony w czasie reformy Marii Teresy? Zaznacz poprawną odpowiedź.

6 - 9 lat

9 - 12 lat

6 -12 lat

12 - 16 lat

3. Zaznacz nazwę wspólnej waluty, wprowadzonej przez Marię Teresę.

DOLAR

TOLAR

TALAR

DALAR

4. Zaznacz nazwę małych fabryczek, które zaczęto zakładać w czasach Marii Teresy.

MANKIETY

MAFAKTURY

MANUFAKTURY

FAKTURYMAN



1. Jak miał na imię Kościuszko? Zaznacz pętlą poprawną odpowiedź.

MATEUSZ

TADEUSZ

TEZEUSZ

ELIGIUSZ

2. W jaki sposób Wojciech Bartos zdobył armatę? Zaznacz pętlą poprawną odpowiedź.

ZALAŁ LONT WODĄ

ODGRYZŁ LONT ZĘBAMI

ZGASIŁ LONT CZAPKĄ

3. Podaj inną nazwę insurekcji kościuszkowskiej.

.....

4. Uzupełnij zdania odpowiednimi wyrazami.

naczelnikiem

powstanie kościuszkowskie

klęską

kosynierzy

W 1794 roku wybuchło

..... powstania został Tadeusz Kościuszko.

W powstaniu dzielnie walczyli, których

bronią były kosy umieszczone pionowo na drzewcu.

Powstanie kościuszkowskie zakończyło się



1. Połącz nazwiska autorów z odpowiednimi utworami.

| | |
|-------------|--------------------------------------|
| J.K.Tyl | „Słownik czesko-niemiecki” |
| J. Jungmann | „Kde domov můj“ |
| J.Dobrovský | „Podstawy języka starosłowiańskiego” |

2. Uzupełnij brakujące wyrazy w czeskim hymnie narodowym.

Kde můj,
kde domov můj.
Voda po lučinách,
bory šumí po skalinách,
v sadě se jara květ,
zemský ráj to na pohled!
A to je ta země,
země česká, domov ,
země česká, domov můj!

3. Do jakiej dynastii należał Franciszek Józef? Zaznacz poprawną odpowiedź.

| | |
|---------------|--------------|
| Jagiellonowie | Przemyślidzi |
| Piastowie | Habsburgowie |

4. Jak zdrobniale nazywano żonę cesarza Franciszka Józefa? Napisz odpowiedź.

.....

5. Uzupełnij zdanie odpowiednimi wyrazami.

II wojna światowa


I wojna światowa

W czasie rządów cesarza Franciszka Józefa wybuchła



**1. Rozwiąż krzyżówkę, następnie odczytaj otrzymane hasło.
W jaki sposób to miejsce jest związane z Fryderykiem?**

1. Żądli nim pszczoła
2. Latają nad morzem
3. Znany piłkarz (Christiano...)
4. Nasz kontynent
5. Ogród zoologiczny inaczej
6. Morskie ... w Tatrach
7. Jeden ze zmysłów
8. Mała Anna
9. Dawna stolica Polski
10. Lata ... koło nosa
11. Jest nią Barbie
12. Zdrobniale Alicja



2. Wyrazy z ramki wpisz w odpowiednie miejsca.

Polak

Warszawianin

obywatel

"Rodem , sercem , talentem świata Fryderyk Chopin ..."

3. Połącz wyrazy z prawej strony z wyrazami z lewej tak, aby powstały zdania.

FRYDERYK CHOPIN

BYŁ WOJCIECH ŻYWNY

MŁODY KOMPOZYTOR

BYŁ KOMPOZYTOREM

OJCIEC FRYDERYKA

BYŁ GENIUSZEM

NAUCZYCIELEM FRYCKA

BYŁ FRANCUZEM



1. Połącz nazwiska z odpowiednimi dziedzinami.

JAN JANSKÝ

MOTORYZACJA

FRANTIŠEK KŘIŽÍK

ELEKTROTECHNIKA

V. LAURIN oraz V. KLEMENT

MEDYCYNA

2. Z jakim miastem współczesnej Polski był związany Jan Evangelista Purkyně?
Zaznacz poprawną odpowiedź.


WAŁBRZYCH

WARSZAWA

WROCLAW

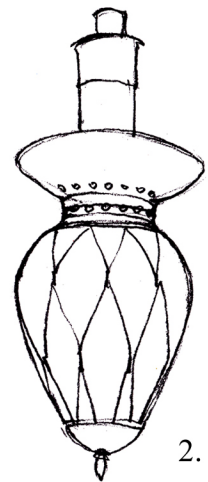
WADOWICE

3. Połącz obrazki z odpowiednimi podpisami.



1.

LAMPA ŁUKOWA
AUTOMOBIL




2.

4. Jakiego rodzaju w języku polskim jest wyraz TRAMWAJ? Podkreśl poprawną odpowiedź.

TA TRAMWAJ

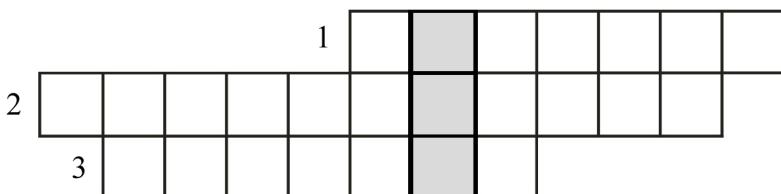

TEN TRAMWAJ





1. Rozwiąż krzyżówki.

1. Narodowość Marii Skłodowskiej –Curie
2. Miejsce pracy chemika, fizyka.
3. Powiększa np.: pismo, obrazki.
4. Imię męża Marii Skłodowskiej-Curie.
5. Nazwisko wynalazcy dynamitu.



1. Druga ojczyzna Marii Skłodowskiej-Curie.
2. Może być promieniotwórczy.
3.Nobla.

2. Połącz imiona polskich noblistów z odpowiednimi nazwiskami.

Lech

Wisława

Henryk

Czesław

Władysław Stanisław

Maria

Skłodowska-Curie

Reymont

Miłosz

Szymborska

Wałęsa

Sienkiewicz

3. Otocz pętelką dwie dziedziny, w których Maria Skłodowska-Curie otrzymała Nagrodę Nobla.

MATEMATYKA

LITERATURA

FIZYKA

MEDYCYNA

CHEMIA

FIZJOLOGIA



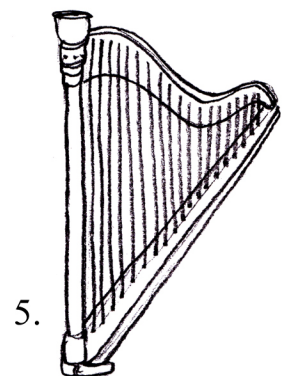

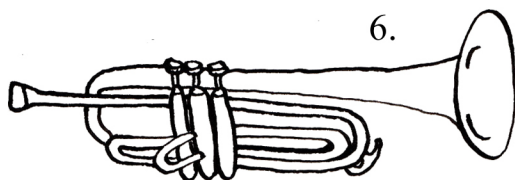

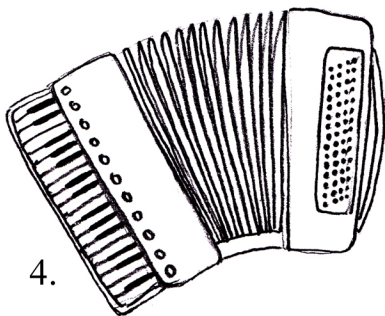
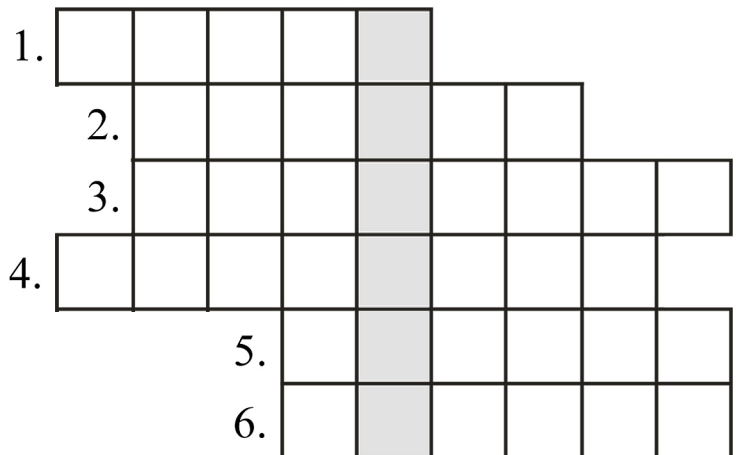
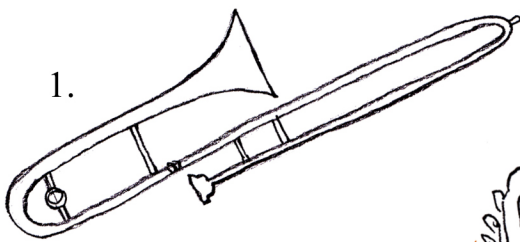
1. Do podanych imion dopisz nazwiska czechosłowackich polityków, którzy przyczynili się do odzyskania niepodległości przez Czechosłowację po I wojnie światowej.

Edvard

Milan Rastislav

Tomáš

2. Wpisz poziomo nazwy odpowiednich instrumentów muzycznych. Rozwiązaniem krzyżówki jest nazwa czechosłowackich oddziałów, które utworzono w czasie I wojny światowej we Francji.




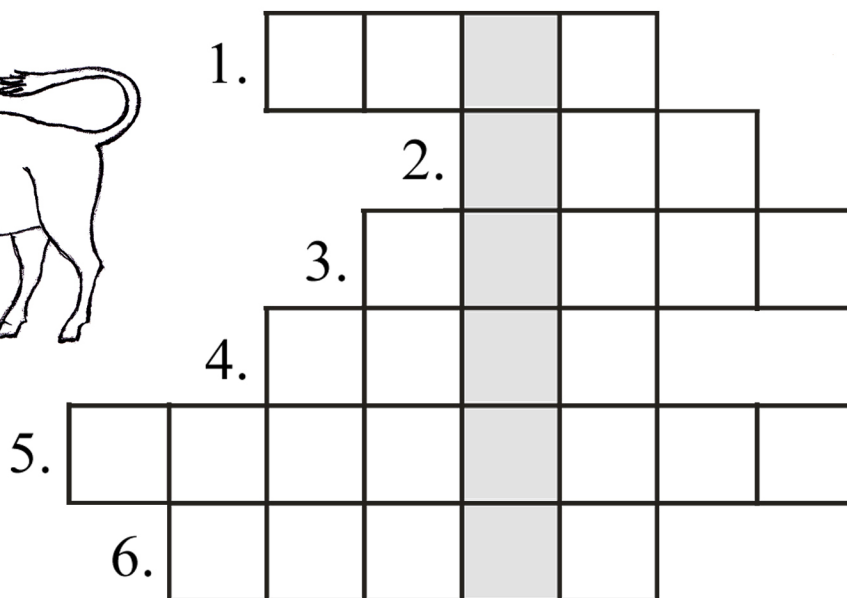






3. Uzupełnij w tekście brakujące wyrazy.


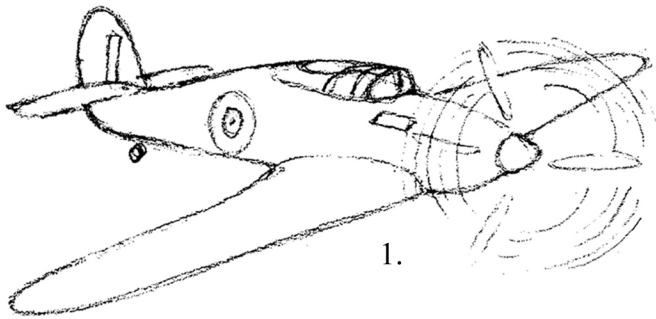
Najstynniejszą czechosłowacką formacją wojskową w czasie I wojny światowej były
..... W czasie swoich walk opanowały całą Kolej
..... W

4. Wpisz poziomo nazwy odpowiednich zwierząt. Rozwiązaniem będzie nazwa ukraińskiej miejscowości, w której oddziały czechosłowackie odniosły słynne zwycięstwo w czasie I wojny światowej.



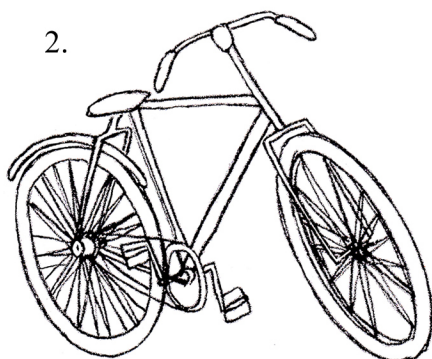






1. Wpisz poziomo nazwy pojazdów, a otrzymasz nazwę polskiej formacji wojskowej walczącej w czasie I wojny światowej.



| | | | | | | | |
|----|--|--|--|--|--|--|--|
| 1. | | | | | | | |
| 2. | | | | | | | |
| 3. | | | | | | | |
| 4. | | | | | | | |
| 5. | | | | | | | |
| 6. | | | | | | | |
| 7. | | | | | | | |





2. Uzupełnij w tekście brakujące wyrazy.

W roku generał Józef dokonał w Pucku symbolicznych zaślubin Polaków z Morzem - dzięki temu państwo polskie zyskało dostęp do morza. W latach dwudziestych Polacy zbudowali nowy port morski w Ważnymi postaciami, które przyczyniły się do budowy portu był Eugeniusz i pochodzący z Zaolzia Józef

3. Połącz dzieła literackie z ich autorami.

| | |
|----------------------|-------------------------|
| Julian Tuwim | „Chłopi“ |
| Stefan Żeromski | „Lokomotywa“ |
| Władysław S. Reymont | „W pustyni i w puszczy“ |
| Henryk Sienkiewicz | „Syzyfowe prace“ |

4. Którzy pisarze (wymienieni w ćwiczeniu 3.) otrzymali Nagrodę Nobla w dziedzinie literatury?

.....

5. Po I wojnie światowej doszło w Polsce do zmiany waluty z marki na złoty polski.

Połącz podane nazwy walut z państwami, w których są używane.

| | |
|--------|-----------------|
| dolar | Wielka Brytania |
| złoty | Niemcy |
| korona | USA |
| rubel | Czechy |
| euro | Polska |
| funt | Rosja |

6. Uzupełnij w tekście brakujące wyrazy.

Na konferencji w belgijskim mieście w roku tereny Śląska Cieszyńskiego znajdujące się po lewej stronie Olzy zostały przyznane Czechosłowacji.

7. Podaj dokładne daty, kiedy obchodzimy Narodowe Święto Niepodległości w Polsce i Święto Niepodległości Czechosłowacji w Czechach.

Polska:, Czechy:



1. Wpisz poziomo nazwy ubrań, a otrzymasz nazwę miejscowości, w której powstała fabryka Baťa.

2.

1.

1.


3.

4.

2. Połącz symbole marek słynnych czechosłowackich firm okresu międzywojennego z ich produktami.

„Java” motocykl „Škoda” samochód osobowy

„Avia” samolot „Baťa” buty „Tatra” ciężarówka





3. Uzupełnij w tekście brakujące wyrazy.

T. G. Masaryk był pierwszym i najdłużej urzędującym prezydentem
Został czterokrotnie wybrany na prezydenta. Rządził państwem od do roku.

4. Z podanego spisu wykreśl nazwiska prezydentów Czechosłowacji, którzy nie rządzili państwem w okresie międzywojennym.

- Václav Havel
- T. G. Masaryk
- Václav Klaus
- Klement Gottwald
- Gustáv Husák
- Edvard Beneš
- Ludvík Svoboda

5. Wymień i zapisz krainy historyczne, które po I wojnie światowej weszły w skład utworzonego państwa czechosłowackiego.

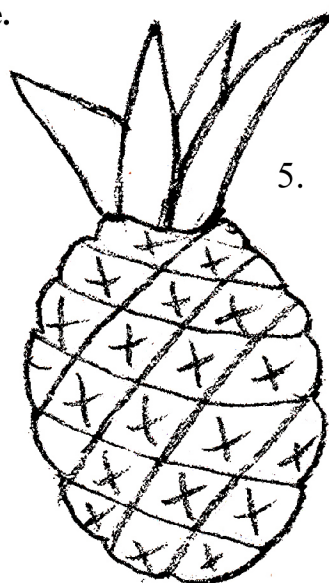
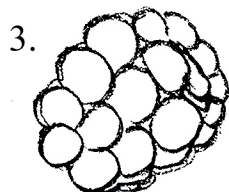
1.
2.
3.
4.
5.

6. Uzupełnij w tekście brakujące wyrazy.

T. G. Masaryk zmarł i został pochowany w Tam też została pochowana jego żona



1. Wpisz poziomo nazwy odpowiednich owoców, a otrzymasz ocean, na którym w czasie II wojny światowej walczyli polscy marynarze.



1.

| | | | | | | |
|--|--|--|--|--|--|--|
| | | | | | | |
|--|--|--|--|--|--|--|

2.

| | | | | | | | | | |
|--|--|--|--|--|--|--|--|--|--|
| | | | | | | | | | |
|--|--|--|--|--|--|--|--|--|--|

3.

| | | | | | |
|--|--|--|--|--|--|
| | | | | | |
|--|--|--|--|--|--|

4.

| | | | | | |
|--|--|--|--|--|--|
| | | | | | |
|--|--|--|--|--|--|

5.

| | | | | | |
|--|--|--|--|--|--|
| | | | | | |
|--|--|--|--|--|--|

6.


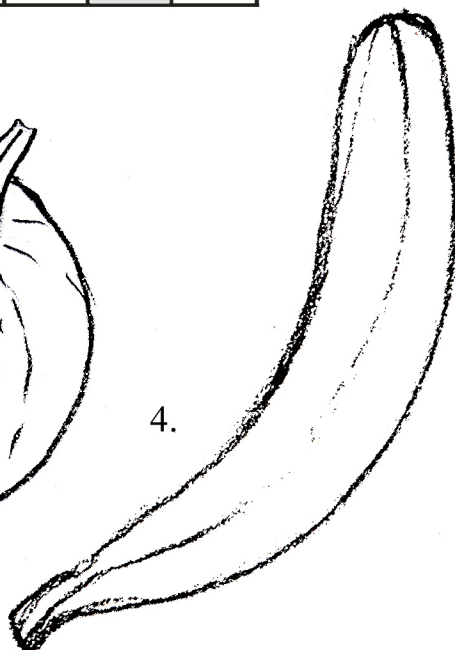

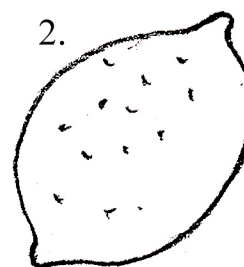

| | | | | | | | | | | | | | |
|--|--|--|--|--|--|--|--|--|--|--|--|--|--|
| | | | | | | | | | | | | | |
|--|--|--|--|--|--|--|--|--|--|--|--|--|--|

7.

| | | | | | |
|--|--|--|--|--|--|
| | | | | | |
|--|--|--|--|--|--|

8.

| | | | | | |
|--|--|--|--|--|--|
| | | | | | |
|--|--|--|--|--|--|





2. Uzupełnij w tekście brakujące wyrazy.

1 września roku wybuchła II wojna światowa. Wojska niemieckie zaatakowały nad Bałtykiem. Szesnaście dni później (17 września) wojska radzieckie zaatakowały wschodnią granicę Polski. II wojna światowa zakończyła się 8 maja roku.

3. Połącz miejsca bitew wojsk polskich w czasie II wojny światowej z państwem, na terenie którego miała miejsce dana bitwa.

| | |
|---------------|----------|
| Wał Pomorski | Norwegia |
| Falaise | Włochy |
| Monte Cassino | Polska |
| Narvik | Holandia |

4. Z jakimi postaciami kojarzą ci się podane miejsca katastrof lotniczych?

Smoleńsk

Gibraltar

5. Podaj nazwę, miejsce i datę wybuchu największego polskiego powstania w czasie II wojny światowej.

.....

.....

.....

.....



1. Uzupełnij w tekście brakujące wyrazy.

30 września roku doszło do podpisania Układu, który niesprawiedliwie przydzielił Niemcom tereny pogranicza tzw. Kraju Sudeckiego.

W roku wojska niemieckie zajęły pozostałe tereny Czech i Moraw, tworząc

2. Jak nazywali się dwaj spadochroniarze, którzy dokonali udanego zamachu na Reinharda Heydricha?

.....
.....

3. Napisz nazwy dwóch wsi, które zostały spalone przez Niemców w odwecie za zamach na R. Heydricha.

.....

4. Połącz nazwisko z wykonywanym zawodem.

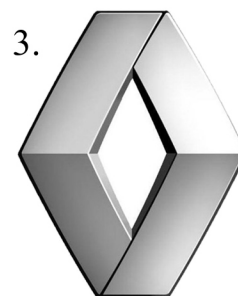
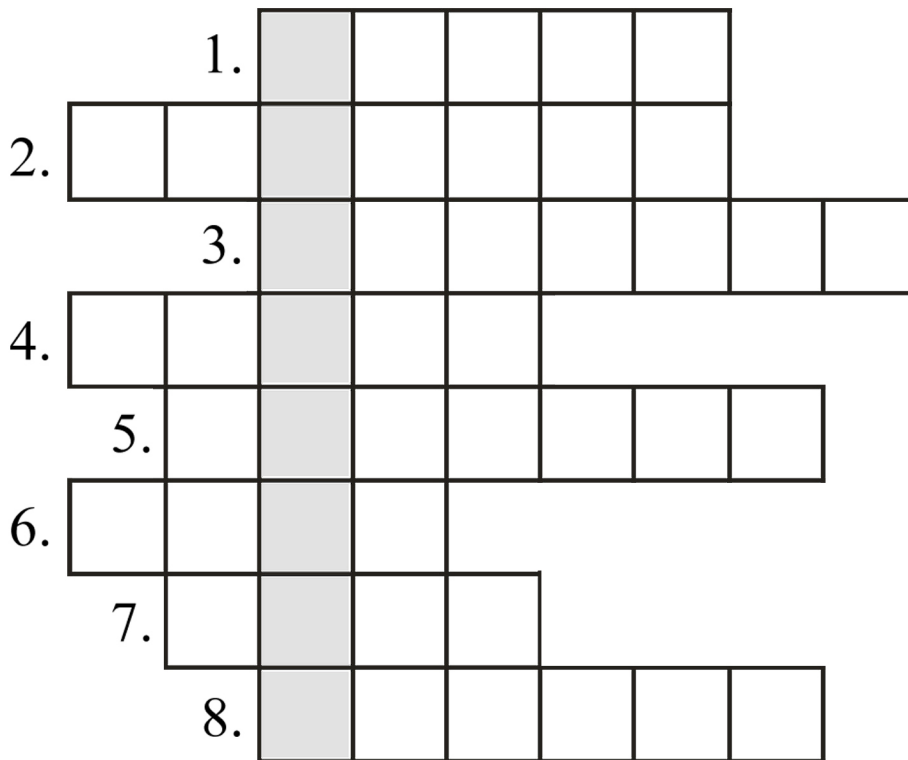

| | |
|-----------|------------|
| Gottwald | naukowiec |
| Zátopek | polityk |
| Dubček | plastyk |
| Heyrovský | sportowiec |
| Miller | polityk |

5. Co Wiesz na temat Praskiej Wiosny? Podaj rok, miejsce (kraj) oraz uczestników tamtych wydarzeń.

.....
.....
.....
.....



6. Wpisz poziomo nazwy odpowiednich firm samochodów.
W oznaczonych polach otrzymasz markę samochodu, w jakim zginął Reinhard Heydrich.





1. Uzupełnij na mapie politycznej powojennej Europy stolice i nazwy państw sąsiadujących z Polską.

Związek Socjalistycznych Republik Radzieckich - Moskwa

Czechosłowacja - Praga

Niemiecka Republika Demokratyczna - Berlin





2. Napisz, jak brzmiała nowa nazwa polskiego państwa nadana kilka lat po II wojnie światowej.

.....

3. Podaj dwie najważniejsze postacie polskiego świata kultury (literatura, film) po II wojnie światowej.

.....

.....

4. Jakiego elementu zabrakło w godle Polski po II wojnie światowej?

.....

5. Napisz, dlaczego Warszawa była tak zniszczona w czasie II wojny światowej?

.....

.....

6. W jaki sposób starano się uratować zniszczoną polską przyrodę?

.....

.....



7. W których regionach Polski miały miejsce największe strajki robotników?

.....

.....

8. Podaj nazwę rzeki, wzdłuż której utworzono (po II wojnie światowej) nową, zachodnią granicę Polski. Rzeka ta ma swoje źródło w Republice Czeskiej.

.....

9. Połącz sąsiadów państwa polskiego z odpowiednimi granicami, dopisz stolice tych państw.

Związek Socjalistycznych Republik Radzieckich

Czechosłowacja

Niemiecka Republika Demokratyczna

granica zachodnia

granica wschodnia

granica południowa



10. Pokoloruj na mapie: kolorem czerwonym - państwa bloku komunistycznego, kolorem niebieskim - państwa bloku demokratycznego. Zaznacz wyraźnie linię graniczną oddzielającą te dwa bloki państw.





1. Podaj imię i nazwisko ostatniego prezydenta Czechosłowacji i pierwszego prezydenta Republiki Czeskiej.

.....

2. Jak nazywała się próba wprowadzenia reform w Czechosłowacji (w roku 1968) przez A. Dubčeka? Zaznacz poprawną odpowiedź.

Praska Wiosna

Praska Jesień

Lato w Pradze

Zima w Pradze

3. Uzupełnij zdania odpowiednimi wyrazami z ramki.

Układu Warszawskiego

normalizacji

Aksamitnej Rewolucji

Po okresie Praskiej Wiosny rozpoczął się okres tzw.

W sierpniu 1968 roku do Czechosłowacji wkroczyły wojska

..... . Zmiany polityczne w Czechosłowacji , zapoczątkowane 17 listopada 1989, noszą nazwę

4. Połącz nazwiska z odpowiednimi wyrażeniami, charakteryzującymi daną osobę.

Václav Havel jest laureatem literackiej Nagrody Nobla.

Marta Kubišová był dysydemtem.

Jaroslav Seifert podpisała Kartę 77.

5. Na jaki urząd zaprzysiężono V. Havla w 1989 roku? Zaznacz poprawną odpowiedź.

PREMIER

MINISTER

PREZYDENT

GENERAŁ



1. W tym mieście znajduje się stocznia, w której strajkował Lech Wałęsa.
Zaznacz poprawną odpowiedź.

KRAKÓW

WARSZAWA

KATOWICE

WROCŁAW

LUBLIN

GDAŃSK

2. Połącz nazwisko z odpowiednią nagrodą.

LECH WAŁĘSA

CZESŁAW MIŁOSZ

literacka Nagroda Nobla

Pokojowa Nagroda Nobla

Nagroda Nobla z fizyki

Nagroda Nobla z chemii

3. Dokończ zdanie odpowiednim wyrazem z ramki.

W roku 1990 Lech Wałęsa został Polski.

premierem

kanclerzem

prezydentem

ministrem



4. Połącz obrazki z odpowiednimi podpisami.



1.



2.



3.



4.

LECH WAŁĘSA

JAN PAWEŁ II

CZESŁAW MIŁOSZ

WOJCIECH JARUZELSKI


5. Połącz obrazki z odpowiednimi wyrazami.



1.



2.



3.



4.

AGENT

ROBOTNIK


STRAJK

STAN WOJENNY



6. Krzyżówka A

1. Celowa przerwa w pracy, w celu uzyskania poprawy sytuacji ekonomicznej, lepszych warunków itp.
2. Podsluchiwanie rozmów telefonicznych za pomocą specjalnych urządzeń.
3. Np.: wojenny w Polsce (wprowadzony został 13 grudnia 1981 roku)
4. Wojciech Jaruzelski (podaj stopień wojskowy)
5. Wałęsa (podaj imię)
6. Tajne śledzenie i obserwacja osoby lub grupy osób.
7. Przymusowe zatrzymanie osób i umieszczenie ich w wyznaczonym miejscu pobytu, połączone z zakazem opuszczania tego miejsca.
8. Był nim James Bond.
9. Kontrola czasopism, programów telewizyjnych oraz wydawnictw przez specjalny urząd.
10. Stan
11. Miejsce, w którym przebywają więźniowie.
12. Członek partii komunistycznej.





1. Połącz nazwę państwa z odpowiednim hymnem.

Rzeczpospolita Polska

„Nad Tatrou sa blýska”

Republika Słowacka

„Kde domov můj“

Republika Czeska

„Mazurek Dąbrowskiego”

2. Zaznacz rok, w którym doszło do rozpadu Czechosłowacji.

1918

1992

1993

1989

3. Połącz nazwiska premierów z odpowiednimi państwami.

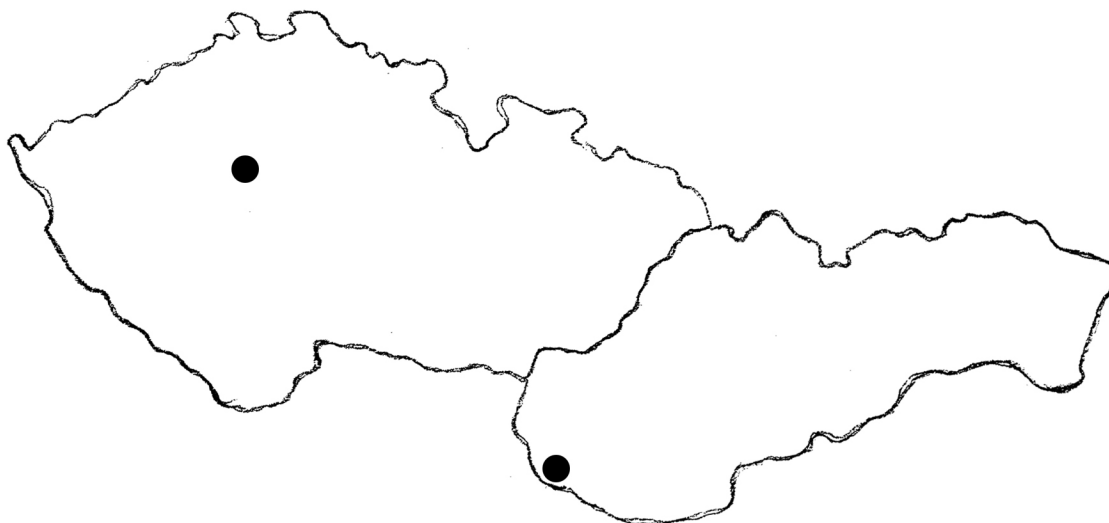
V. Klaus

Republika Słowacka

V. Mečiar

Republika Czeska

4. Wpisz nazwy stolic poszczególnych państw.



5. Jaka była reakcja V. Havla na przyjęcie deklaracji niepodległości przez Słowacką Radę Narodową? Zaznacz poprawną odpowiedź.

zrezygnował z urzędu prezydenta

ucieszył się

6. Podaj datę (dzień, miesiąc, rok) powstania Republiki Czeskiej oraz Republiki Słowackiej.

.....



2. Biskupin - VI wiek p.n.e., Podobora - VII wiek p.n.e. i VIII n.e.

3. Biskupin - to osada **obronna** sprzed 2500 lat. W celu zabezpieczenia przed wrogiem otoczono ją **wałem** obronnym. W osadzie mieszkało około **tysiąca** osób. Do osady prowadził **most** i brama **wjazdowa**. Mieszkańcy trudnili się **rolnictwem** i **rybołówstwem**. Narzędzia robili z **kości, brązu i żelaza**.

1. DAWNE DZIEJE
(Z DÁVNÝCH DOB)

ODPOWIEDZI



1. 1) biżuteria, 2) radło, 3) żarna, 4) naczynia ceramiczne

3. 1. c) 2. c) 3. b) 4. a) 5. b) 6. c)

2. LEGENDY o powstaniu państwa polskiego

ODPOWIEDZI



2. 1) Gopło, 2) Popiel, 3) Piast, 4) Siemowit, 5) Gniezno, 6) Lech

3. Według legendy pierwszym władcą państwa Polan był **Popiel**.
Pierwszą stolicą Polski było **Gniezno**. Mysia Wieża leży nad jeziorem **Gopło**.
Godłem Polski jest **Orzeł Biały**.

2. LEGENDY CZESKIE (STARÉ POVĚSTI ČESKÉ)

ODPOWIEDZI



2. Według legendy pierwszym władcą Czechów był **praojciec Czech**.

Gród, który wybudowano nad Wełtawą to **Wyszehrad**.

Córka, która objęła rządy po śmierci ojca nazywała się **Libusza**.

Mężem Libuszy i legendarnym założycielem rodu Przemyslidów był **Przemysł Oracz**.

3. Postacie legendarne: Mojmir, praojciec Czech, Libusza, Przemysł Oracz

bajkowe: Czerwony Kapturek, Baba Jaga, Miś Uszatek, Hello Kitty, Jaś i Małgosia

współczesne: Václav Klaus, Bronisław Komorowski, Robert Kubica, Justyna Kowalczyk, Jaromír Jágr

3. MIESZKO I

ODPOWIEDZI



1. Z rodu Piastów, w Gnieźnie, X wiek (966 rok), ślub z Dąbrówką

2. księciem

3. CYRYL I METODY (CYRIL A METODĚJ)

ODPOWIEDZI



1. Wielkie Morawy
 2. Cyryl (Konstanty) i Metody
 3. Wiek IX
-



1. Po śmierci Mieszka I rządy w Polsce objął **Bolesław Chrobry**. Książę chciał w Gnieźnie założyć arcybiskupstwo, dlatego wykupił od Prusów ciało **św. Wojciecha**. Czeski władca **Brzetysław** napadł na Polskę i zabrał do Pragi **ciało biskupa Wojciecha**. W roku **1025**, w Katedrze Gnieźnieńskiej, Bolesław Chrobry koronował się na króla Polski. Do najbardziej znanych zabytków Gniezna należą **Drzwi Gnieźnieńskie** (wykonane z brązu), które przedstawiają osiemnaście scen z życia świętego Wojciecha.
 2. Gniezno, Bolesław Chrobry, Gnieźnie,
 3. 1025 rok- koronacja Bolesława Chrobrego na króla
-

4. PRZEMYŚLIDZI (PŘEMYSLOVCI)

ODPOWIEDZI



1. 2. połowa IX wieku – początek XIV wieku

2. W kronice Kosmasa znajduje się podanie o księżnej Libuszy i Przemyśle Oraczu. Waclaw I Święty był wnukiem Ludmiły. Brat św. Wacława dostał przydomek Srogi. Dąbrówka była córką czeskiego księcia Bolesława. Wacław III był ostatnim władcą z dynastii Przemyślidów.



1. Okres od XI do XIII wieku to czas, gdy książęta i królowie polscy prowadzili wojny z Niemcami, Czechami, Krzyżakami, Tatarami. Rozbiciem dzielnicowym nazywamy podzielenie państwa polskiego przez króla między swoich synów. Przydomki władców to przymiotniki, które przyłgnęły do władców, zostały im nadane, by zaznaczyć szczególną cechę.

2. Hasło: Piastowie

5. PIASTOWIE (PIASTOVCI)

ODPOWIEDZI



1. A - Wieża Piastowska, B - rotunda św. Mikołaja

2. Legenda o **Trzech** Braciach

Trzej bracia **Leszko**, **Mieszko** i **Cieszko** wyruszają w podróż.

Podróżujący przez puszcę Leszek poszukuje **wody**.

Odkrywa **źródelko** u stóp wzgórza.

Wkrótce przybywają ze swoimi drużynami **Mieszko** i **Cieszko**.

Bracia witają się z **radością**.

W miejscu spotkania postanawiają założyć gród, który nazwą **Cieszynem**.

Źródło zaś będzie się nazywało **Studnią Trzech Braci**.

3. 1) rotunda św. Mikołaja, 2) Wieża Piastowska, 3) Studnia Trzech Braci

4) pomnik Mieszka I Cieszyńskiego

6. WŁADYSŁAW ŁOKIETEK

ODPOWIEDZI



1. 1) kościół Mariacki, 2) Smocza Jama, 3) kopiec Kościuszki, 4) Sukiennice
5) Wawel

2. Władysław Łokietek, Kraków, Wisła, Wawel, Barbakan

6. LUKSEMBURGOWIE (LUCSEMBURKOVÉ)

ODPOWIEDZI



1. W czasach panowania Karola IV założono nową część Pragi - **Nowe Miasto**.

Brzegi Wełtawy połączono **kamiennym mostem**.

Założono w Pradze pierwszy **uniwersytet** w Europie Środkowej.

Podczas panowania Karola IV wybudowano zamek **Karlsztejn /Karlštejn/**, w którym przechowywano klejnoty koronacyjne. Karol IV odbudował także swoją siedzibę - **Zamek Praski**.

2. 1346 – 1378 (XIV wiek)

3. Karol IV należał do najsłynniejszych władców w czeskiej historii.

Karol IV był mądrym władcą, dyplomata i odważnym rycerzem.

Karol IV należał do najbardziej wykształconych władców tego okresu.

4. 9.7.1357, godzina 5:31



1. Zastał Polskę drewnianą, a zostawił murowaną.
 2. Władca zmarł, nie pozostawiając po sobie potomka rodu męskiego
 3. 2. połowa X wieku – 2. połowa XIV wieku
 4. Kazimierz Wielki, Bolesław Chrobry, Bolesław Krzywousty, Władysław Łokietek
-



1. Po śmierci Karola IV władzę objął jego syn **Wacław IV. Jan Hus** w swych kazaniach, w Kaplicy Betlejemskiej, upominał szlachtę oraz dostojników kościelnych, aby żyli według bożych przykazań. Kościół nazwał Jana Husa **heretykiem**. Na soborze kościelnym w **Konstancji** Jan Hus niestety nie obronił swoich poglądów, dlatego został skazany na śmierć przez spalenie.

3. Sudomierz, Lipany, Domażlice

4. 6 lipca

8. WŁADYSŁAW JAGIEŁŁO

ODPOWIEDZI



- 1) w 1410 roku, 2) Polacy z Litwinami, 3) Malbork,
4) $2012 - 1410 = 602$ lata, $2013 - 1410 = 603$ lata itd.
-



1. Wynalazcą czcionki drukarskiej jest **Jan Gutenberg**.

Wynalazek druku jest jednym z najważniejszych **wydarzeń w historii**.

Druk umożliwił rozpowszechnienie się **słowa pisanego**.

Gutenberg zapoczątkował nową erę w **dziejach ludzkości**.

2. autor - ma pomysł na ciekawą książkę, pisze tekst

ilustrator - artysta plastyk tworzy ilustracje do książki

korektor - sprawdza poprawność tekstu

wydawca - przygotowuje książkę do druku

drukarz - przenosi tekst książki na papier



1. Jan Długosz, Wincenty Kadłubek, Gall Anonim

3. Gall Anonim - żył na dworze Bolesława Krzywoustego, pisał po łacinie, "Kronika polska"
Wincenty Kadłubek - łączył legendy z faktami historycznymi, pisał po polsku
Jan Długosz - pisał w XV wieku, żył na dworze Kazimierza Jagiellończyka, pisał po polsku,
„Roczniki czyli kroniki sławnego Królestwa Polskiego”

9. JERZY Z PODIEBRADÓW (JIŘÍ Z PODĚBRAD)

ODPOWIEDZI



1. Po wojnach husyckich na ziemiach czeskich panował **Jerzy z Podiebradów**.

Nie pochodził z dynastii królewskiej, był bogatym **szlachcicem**. W tym czasie napadł na ziemie czeskie węgierski król **Maciej Korwin**. Następcą Jerzego z Podiebradów był **Władysław Jagiellończyk**, syn **polskiego** króla.

2. 2.połowa XV wieku – 1.połowa XVI wieku

3. Brama Prochowa (Prašná brána) – na pocz. XVIII wieku służyła jako magazyn prochu



1. Wstrzymał Słońce, ruszył Ziemię.
 2. Mikołaj Kopernik udowodnił, że Ziemia krąży wokół Słońca, a nie Słońce wokół Ziemi.
 3. b) to, co było związane z Włochami
 4. Wiek XVI nosił nazwę **Złotego Wieku**. Pod koniec XVI wieku król **Zygmunt III Waza** rozpoczął przenosiny dworu królewskiego z Krakowa do Warszawy. W Polsce panowali ostatni królowie z rodu **Jagiellonów**. Królowa Bona była Włoszką i żoną **Zygmunta Starego**. Najwybitniejszym astronomem tych czasów był **Mikołaj Kopernik**.
-

10. HABSBURGOWIE (HABSBURKOVÉ)

ODPOWIEDZI



1. 1.połowa XVI wieku – początek XX wieku

2. Cesarz Rudolf II pochodził z dynastii **Habsburgów**.

Na swoją siedzibę Rudolf II wybrał **Pragę**.

W czasach panowania Rudolfa II Praga **rozkwitała**.

Rudolf II **był** miłośnikiem nauki i sztuki.

Na swój dwór zapraszał artystów, naukowców, alchemików, nawet sławnych **astronomów**.



1. Leszno

2. Jan Amos Komeński mieszkał i pracował w polskim mieście **Leszno**, które stało się ważnym ośrodkiem reformacji. Kilkanaście lat przed swoją śmiercią wyprowadził się do **Amsterdamu** w Holandii, gdzie zmarł i został pochowany w **Naarden**, w 1670 roku.

3. „Labirynt świata i raj serca“, „Wielka dydaktyka“

4. Jan Amos Komeński nazywany był „nauczycielem narodów“, ponieważ był wybitnym pedagogiem, stworzył nowoczesny system nauczania.

11. JAN AMOS KOMEŃSKI (JAN AMOS KOMENSKÝ)

ODPOWIEDZI



2. W Europie od 1618 do 1648 roku między protestanckimi władcami i katolicką dynastią Habsburgów toczyła się wojna, którą nazwano wojną **trzydziestoletnią**. Po bitwie na **Białej Górze** w **1620** roku, która była częścią tej wojny, J. A. Komeński musiał uciekać z kraju, ponieważ nie chciał zmienić wiary **protestanckiej** na wiarę **katolicką**.

3. Habsburgowie

4. Uherský Brod - Czechy
Fulnek - Czechy
Leszno - Polska
Sztokholm - Szwecja
Amsterdam - Holandia

5. Naarden



1. Zygmunt III Waza-Szwecja, Władysław Jagiełło-Litwa, Henryk Walezy-Francja,
Jan III Sobieski-Polska

2. Zygmunt III Waza przeniósł stolicę Polski z **Krakowa** do **Warszawy** w **1596** roku. Był on synem
Jana III Wazy i córki Zygmunta Starego Katarzyny **Jagiellonki**.

3. **Stanisław Żółkiewski**

4. kos, orzeł, mewa, wróbel, dudek HASŁO: SZWED

12. BITWA POD WIEDNIEM (BITVA U VÍDNĚ)

ODPOWIEDZI



1. Sułtan

2. Wiedeń

4. Warszawa - Wilanów, Kraków - Wawel, Praga - most Karola, Paryż - Wersal, Londyn - Tower Bridge

5. Jan III Sobieski - Marysieńka, Mieszko - Dąbrówka, Władysław Jagiełło - Jadwiga,
Zygmunt Stary - Bona

6. Polski król **Jan III Sobieski** w **1683** roku walczył w bitwie pod **Wiedniem**. Pokonał wojska **tureckie** pod dowództwem wielkiego wezyra **Kara** Mustafy.



1. Stanisław August Poniatowski
 2. Katarzyna II
 3. Rosja, Austria, Prusy
 4. Założył Teatr Narodowy, założył Szkołę Rycerską, przeprowadził reformę szkolnictwa, pracował nad Konstytucją 3 maja
 5. 1) Stanisław August Poniatowski, 2) Jan Henryk Dąbrowski, 3) Józef Wybicki
 6. Polska, Kiedy, przemoc, Dąbrowski, włoskiej, Twoim, złączym, Wisłę, Bonaparte, zwyciężyć, Dąbrowski, Czarniecki, Ojczyzny, Dąbrowski, ojciec, nasi, Dąbrowski
 7. Józef Wybicki
-

13. MARIA TERESA
(MARIE TEREZIE)

ODPOWIEDZI



1. Maria Teresa- Habsburgowie, Bolesław Chrobry- Piastowie
 2. 6-12 lat
 3. talar
 4. manufaktury
-



1. Tadeusz
 2. Zgasił lont czapką
 3. powstanie kościuszkowskie
 4. W 1794 roku wybuchło **powstanie kościuszkowskie**. **Naczelnikiem** powstania został Tadeusz Kościuszko. W powstaniu dzielnie walczyli **kosynierzy**, których bronią były kosy umieszczone pionowo na drzewcu. Powstanie kościuszkowskie zakończyło się **klęską**.
-

14. FRANCISZEK JÓZEF I
(FRANTIŠEK JOSEF I)

ODPOWIEDZI



1. J.K.Tyl - „Kde domov můj“, J.Jungmann - „Słownik czesko-niemiecki”,
J.Dobrovský - „Podstawy języka starosłowiańskiego”

2. Kde **domov** můj,
kde domov můj.
Voda **hučí** po lučinách,
bory šumí po skalínách,
v sadě **skví** se jara květ,
zemský ráj to na pohled!
A to je ta **krásná** země,
země česká, domov **můj**,
země česká, domov můj!

3. Habsburgowie

4. Sissi

5. W czasie rządów cesarza Franciszka Józefa wybuchła **I wojna światowa.**



1. Rozwiązanie krzyżówki: Żelazowa Wola (żańdło, mewy, Ronaldo, Europa, zoo, oko, wzrok, Ania, Kraków, osa, lalka, Ala)

2. Rodem **Warszawianin**, sercem **Polak**, talentem świata **obywatel** Fryderyk Chopin.

3. Fryderyk Chopin był kompozytorem. Młody kompozytor był geniuszem. Ojciec Fryderyka był Francuzem. Nauczycielem Frycka był Wojciech Żywny.

15. ROZWÓJ XIX WIEKU (ROZMACH XIX. STOLETÍ)

ODPOWIEDZI



1. JAN JANSKÝ - medycyna, FRANTIŠEK KŘIŽÍK - elektrotechnika
V. LAURIN oraz V. KLEMENT - motoryzacja

2. Wrocław

3. 1) automobil, 2) lampa łukowa

4. Ten tramwaj



1. Rozwiązanie krzyżówek: POLON (polska, laboratorium, lupa, Piotr, Nobel)
RAD (Francja, pierwiastek, Nagroda)

2. Lech Wałęsa, Wisława Szymborska, Henryk Sienkiewicz, Czesław Miłosz,
Władysław Stanisław Reymont, Maria Skłodowska - Curie

3. fizyka, chemia

16. I WOJNA ŚWIATOWA (I. SVĚTOVÁ VÁLKA)

ODPOWIEDZI



1. Edvard Beneš, Milan Rastislav Štefánik, Tomáš Garrigue Masaryk

2. Nazdar

3. Najstłynniejszą czechosłowacką formacją wojskową w czasie I wojny światowej były **Legiony Czechosłowackie**. W czasie swoich walk opanowały całą Kolej **Transsyberyjską** w **Rosji**.

4. Zborów



1. Legiony

2. W **1920** roku generał Józef **Haller** dokonał w Pucku symbolicznych zaślubin Polaków z Morzem **Baltyckim** - dzięki temu państwo polskie zyskało dostęp do morza. W latach dwudziestych Polacy zbudowali nowy port morski w **Gdyni**. Ważnymi postaciami, które przyczyniły się do budowy portu był Eugeniusz **Kwiatkowski** i pochodzący z Zaolzia Józef **Kiedroń**.

3. J. Tuwim – „Lokomotywa“, W. S. Reymont- „Chłopi“, S. Żeromski- „Syzyfowe prace“, H. Sienkiewicz – „W pustyni i w puszczy“

4. Władysław S. Reymont, Henryk Sienkiewicz

5. dolar-USA, złoty-Polska, korona-Czechy, rubel-Rosja, euro-Niemcy, funt-Wielka Brytania

6. Na konferencji w belgijskim mieście **Spa** w **1920** roku tereny Śląska Cieszyńskiego znajdujące się po lewej stronie Olzy zostały przyznane Czechosłowacji.

7. Polska - **11 listopada**, Czechy - **28 października**

17. TOMASZ GARRIGUE MASARYK
(TOMÁŠ GARRIGUE MASARYK)

ODPOWIEDZI



1. Zlin

2. 1) samolot „Avia“, 2) ciężarówka „Tatra“, 3) samochód osobowy „Škoda“,
4) buty marki „Bat’a“, 5) motocykl „Java”

3. T. G. Masaryk był pierwszym i najdłużej urzędującym prezydentem **Czechosłowacji**
Został czterokrotnie wybrany na prezydenta. Rządził państwem od **1918** do **1935** roku.

4. T. G. Masaryk, Edvard Beneš

5. Czechy, Morawy, Ruś Zakarpacka, Słowacja, Śląsk.

6. T. G. Masaryk zmarł i został pochowany w miejscowości **Lány**. Tam też została pochowana jego żona **Charlotte Garrigue**.



1. Atlantyk

2. 1 września **1939** roku wybuchła II wojna światowa. Wojska niemieckie zaatakowały **Westerplatte** nad Bałtykiem. Szesnaście dni później (17 września) wojska radzieckie zaatakowały wschodnią granicę Polski. II wojna światowa zakończyła się 8 maja **1945** roku.

3. Wał Pomorski-Polska, Narvik-Norwegia, Falaise-Holandia, Monte Cassino-Włochy

4. Smoleńsk-Lech Kaczyński, Gibraltar-Władysław Sikorski

5. Powstanie Warszawskie, Warszawa 1944 rok

18. II WOJNA ŚWIATOWA (II. SVĚTOVÁ VÁLKA)

ODPOWIEDZI



1. 30 września **1938** roku doszło do podpisania Układu **Monachijskiego** który niesprawiedliwie przydzielił Niemcom tereny pogranicza tzw. Kraju Sudeckiego. W **1939** roku wojska niemieckie zajęły pozostałe tereny Czech i Moraw, tworząc **Protektorat Czech i Moraw**.
 2. Jozef Gabčík i Jan Kubiš
 3. Lidice i Ležaky
 4. Gottwald - polityk, Zatopek - sportowiec, Dubček - polityk, Jaroslav Heyrovský - naukowiec, Miller - plastyk
 5. W 1968 roku w Czechosłowacji doszło do zbrojnej interwencji wojsk państw Układu Warszawskiego na czele z Rosjanami. W Pradze i na ulicach innych czeskich miast pojawiły się czołgi. Działania te przerwała dobrze rozpoczęte reformy i doprowadziły do umocnienia władzy komunistów w kraju.
 6. Mercedes
-



2. Polska Rzeczpospolita Ludowa

3. Czesław Miłosz, Andrzej Wajda

4. herbowy orzeł został bez korony

5. W czasie Powstania Warszawskiego i po powstaniu (w 1944 r.) Niemcy zupełnie zniszczyli Warszawę i jej dorobek kulturowy.

6. Utworzono nowe parki narodowe i rezerваты przyrody.

7. Śląsk, Wybrzeże.

8. Odra

9. Związek Socjalistycznych Republik Radzieckich - granica wschodnia, Moskwa
Czechosłowacja - granica południowa, Praga
Niemiecka Republika Demokratyczna - granica zachodnia, Berlin



1. Václav Havel
 2. Praska Wiosna
 3. normalizacji, Układu Warszawskiego, Aksamitnej Rewolucji
 4. Václav Havel był dysydem. Marta Kubišová podpisała Kartę 77. Jaroslav Seifert jest laureatem literackiej Nagrody Nobla.
 5. prezydent
-



1. Gdańsk

2. Lech Wałęsa- Pokojowa Nagroda Nobla, Czesław Miłosz- literacka Nagroda Nobla

3. Prezydentem

4. 1) Czesław Miłosz, 2) Lech Wałęsa, 3) Jan Paweł II, 4) Wojciech Jaruzelski

5. 1) robotnik, 2) agent, 3) stan wojenny, 4) strajk

6. Rozwiązanie krzyżówki A: totalitaryzm (strajk, podsłuch, stan, generał, Lech, inwigilacja, internowanie, agent, cenzura, wojenny, więzienie, komunista)

Rozwiązanie krzyżówki B: demokracja (prezydent, papież, brama, Miłosz, elektryk, Solidarność, Anna, stocznia, emigracja, azyl)

20. POWSTANIE REPUBLIK - RC, RS
(VZNIK REPUBLIK - ČR, SR)

ODPOWIEDZI

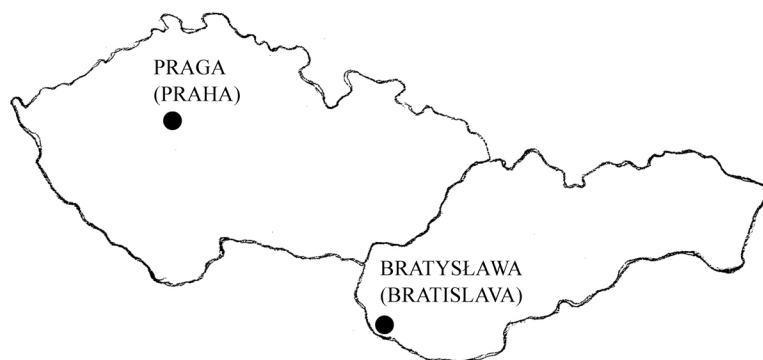


1. Rzeczpospolita Polska- „Mazurek Dąbrowskiego”
Republika Słowacka- „Nad Tatrou sa blýska”
Republika Czeska – „Kde domov můj“

2. 1992

3. V. Klaus - Republika Czeska, V. Mečiar - Republika Słowacka

4.



5. zrezygnował z urzędu prezydenta

6. 1 stycznia 1993 r.
